

历史试卷

本试题分第 I 卷(选择题)和第 II 卷(非选择题)两部分。满分 100 分。

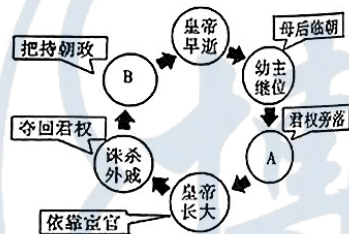
第 I 卷(选择题 共 50 分)

本卷共 25 小题,每题 2 分,共计 50 分。在每题列出的 4 个选项中,只有一项是符合题目要求的。

1. 央视热播纪录片《舌尖上的中国》解说片段:从平凡的一锅米饭,到一个馒头……主食,永远都是中国人餐桌上最后的主角。以下古人类有可能最早食用米饭的是
- A. 北京人 B. 山顶洞人 C. 河姆渡人 D. 半坡居民
2. 商代的方国与商王之间缺乏内在的联系纽带,有很强的独立性。为解决这一问题,西周采取的主要措施是推行
- A. 禅让制 B. 礼乐制 C. 分封制 D. 井田制

3. 如图是某同学根据东汉后期中政局变化画的一幅示意图,图中 AB 两处应为

- A. 与民休息、独尊儒术
B. 王莽改制、农民起义
C. 光武中兴、党锢之祸
D. 外戚专权、宦官得宠



4. 下列两幅地图的变迁反映了当时

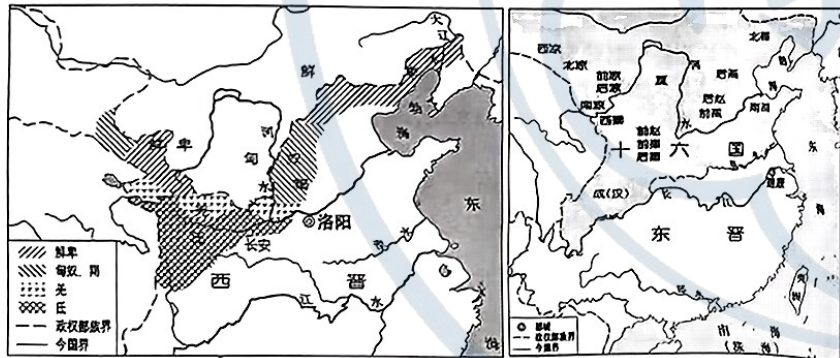


图 1 西晋内迁少数民族分布图

图 2 东晋十六国形势图

- A. 民族交融的深化
B. 经济重心的转移
C. 政权并立的延续
D. 华夏正统的沦丧

5. 某历史学习小组依据“大运河的开凿”、“贞观之治”、“开元盛世”、“遣唐使和鉴真东渡”等内容设计了一个课外活动课,以下最符合这一活动内容的主题是
- A. 隋唐的制度与创新 B. 隋唐开明的民族政策
C. 隋唐的繁荣与开放 D. 隋唐中华文化圈形成
6. 下表所示为 980—1290 年黄河中下游 5 省与长江中下游 6 省人口占全国人口的比重情况。影响表中现象出现的主要因素是

时间	黄河中下游 5 省	长江中下游 6 省
980 年	30.66%	27.87%
1102 年	29.67%	39.76%
1290 年	11.24%	61.27%

注:黄河中下游 5 省分别为河南、河北、山东、山西和陕西,长江中下游 6 省为江苏、安徽、浙江、江西、湖北和湖南。

- A. 中国政治重心的南移 B. 民族矛盾的激化
C. 医疗技术的落后 D. 北方自然条件的恶化
7. 有学者统计,公元 1600 年中国人口已达 1 亿,1741 年达 1.6 亿以上,至 1762 年增至 2 亿。人口的迅速增长与高产作物的引入有重要关系。材料中的“高产作物”可能是
- A. 玉米和甘薯 B. 水稻和小麦 C. 番茄和马铃薯 D. 南瓜与粟
8. 道光十三年(1833 年),两江总督和江苏巡抚向道光帝联名上《查议银昂钱贱除弊便民事宜疏》,痛陈银贵(铜)钱贱的流弊,提议“银钱官铸”。这一奏疏出台的主要背景是
- A. 朝贡贸易逐渐萎缩 B. 白银成为法定货币
C. 鸦片走私日益猖獗 D. 世界市场开始形成
9. 开平煤矿于 1881 年正式投产,当年产煤三千六百余吨,大量投放市场,获利甚厚。这反映了洋务运动时期
- A. 军事工业的兴起 B. 民用工业的发展
C. 外国资本的进入 D. 封建经济的瓦解
10. 戊戌变法时期,维新派在上海创办的影响较大的报刊是
- A. 《时务报》 B. 《国闻报》 C. 《湘学报》 D. 《直报》

11. 右图是为纪念中国共产党百年历程中某历史事件而发行的邮票。下列选项与该历史事件相匹配的是



- A. 开天辟地
B. 峥嵘岁月
C. 中流砥柱
D. 伟大胜利

12. 朱德在一次会议上说：“（现在）我们的力量扩大了，又有井冈山作为根据地，我们就可以不断地打击敌人，进行革命。”朱德发表这番言论最早可能是在

- A. 1927年 B. 1928年 C. 1929年 D. 1935年

13. 伦敦《泰晤士报》（1937年11月28日）载：“此次两军作战，双方伤亡惨重，但十周之英勇抵抗，已造成中国堪称军事国家之荣誉，此前所未闻者……上海一隅之抵抗，对于整个中国均有极大之影响。”这一“作战”

- A. 标志着全民族抗战局面开始形成 B. 打破了日军的“囚笼政策”
C. 粉碎了日军“三个月亡华”的狂妄企图 D. 使抗战进入战略相持阶段

14. 1948年11月初，人民解放军发起了一场重大战役，历时66天，解放了以徐州为中心的长江中下游以北的广大地区。这场战役是

- A. 辽沈战役 B. 淮海战役 C. 平津战役 D. 渡江战役

15. 它规定：中华人民共和国是“新民主主义即人民民主主义的国家”，是中国工人阶级、农民阶级、小资产阶级、民族资产阶级及其他爱国民主分子的人民民主统一战线的政权。上述论述应出自

- A. 《新民主主义论》 B. 《论人民民主专政》
C. 《中国人民政治协商会议共同纲领》 D. 《论十大关系》

16. 雷锋日记上这样写道：“如果你是一滴水，你是否滋润了一寸土地？如果你是一线阳光，你是否照亮了一分黑暗？”这则日记

- A. 反映了无私奉献的社会新风貌 B. 折射出经济的困难局面
C. 体现改变农村落后面貌的渴望 D. 彰显了热爱集体的品质

17. 中国共产党历史上经历过三次工作重心的转移。党的第三次工作重心转移表现为从“以阶级斗争为纲”转移到经济建设上来。它发生于

- A. 1956年 B. 1966年 C. 1978年 D. 1992年

18. 《人民日报》历年高频词汇能够反映当时中国社会发展的主题。20世纪90年代的高频词汇包括

- A. 经济建设 联产承包 经济特区 精神文明
B. 市场经济 祖国统一 世贸组织 信息时代
C. 小康社会 生态文明 自主创新 科学发展观
D. 一带一路 乡村振兴 脱贫攻坚 高质量发展

19. 右图的象形文字出现在装饰图案之中，是法老拉美西斯九世的名字。该文物应该出现在

- A. 印度河流域 B. 两河流域
C. 黄河流域 D. 尼罗河流域



20. 斯塔夫里阿诺斯在《全球通史》中说：“那时的西欧是无可匹敌的，它拥有向外猛冲的推动力——宗教动力、思想骚动、经济活力、技术进步和有效动员人力物力的民族君主国。”材料说明了

- A. 近代科技发展的社会基础 B. 欧洲革命的历史影响
C. 新航路开辟的原因和条件 D. 启蒙运动兴起的背景

21. 1868年4月，某君主宣誓“五条誓文”，施行新政，推行“富国强兵、殖产兴业、文明开化三大政策。”该君主是

- A. 亚历山大一世 B. 克伦威尔 C. 明治天皇 D. 威廉一世

22. 以下是二十世纪三个年份全球主要能源占比变化表，造成煤炭与石油比例变化的主要原因是

项目 \ 时间	1928年	1950年	1990年
煤	75%	50%	30%
水力	8%	17%	14%
石油、天然气	17%	30%	50%

- A. 蒸汽机得到广泛运用 B. 内燃机的大规模应用
C. 电气时代电力资源取代了煤炭资源 D. 第三次科技革命推动新能源的运用

23. 美国黑人权利运动领袖马丁·路德·金认为，争取权利的最佳方式是“对罪恶的积极的非暴力抵抗”。下列历史人物与他有类似主张的是

- A. 提拉克 B. 桑地诺 C. 甘地 D. 纳赛尔

24. 2023年是斯大林格勒保卫战胜利80周年。有关该战役说法正确的是

- A. 英法等国继续推行绥靖政策 B. 战时共产主义政策是重要保障
C. 成为第二次世界大战的转折点 D. 标志着二战发展到全球阶段

25. 20世纪90年代末，中国国际关系学界针对国际形势的发展变化，就国际格局做出了“一超多强”的判断。在变局中，美国“一超”的地位动摇了，新格局的形成处于动态局面。对“新格局的形成处于动态局面”理解最准确的是

- A. 世界多极化趋势加强 B. 新的国际格局已经形成
C. 经济全球化趋势加速 D. 国际经济新秩序已建立

第 II 卷(非选择题 共 50 分)

本卷共 3 道题, 26 题 17 分, 27 题 16 分, 28 题 17 分 共 50 分。

26. 在中国古代历史上各民族交往交流交融、共同发展。

材料一

①《北魏帝王出御图》反映了孝文帝改革以汉服代替鲜卑服的效果。

②“然骞(张骞)凿空, 诸后使往者皆称博望侯, 以为质于外国, 外国由是信之。”

③疆域西跨葱岭, 西北达巴勒喀什池, 北接西伯利亚, 东北至外兴安岭和库页岛, 东临太平洋, 东南到台湾及其附属岛屿, 包括钓鱼岛、赤尾屿等, 南至南海诸岛, 西南抵喜马拉雅山脉。

④齐桓公打着“尊天子, 攘四夷”的旗号, 号令诸侯, 扩展疆域, 成为一代霸主。

⑤“北有狂虏(辽), 西有黠羌(西夏)……二虏之势所以难制者, 有城国(指定居的农业社会), 有行国(指游牧社会)……”。

A. 春秋 B. 西汉 C. 北魏 D. 北宋 E. 清代

(1) 请将上述史料与相应的时代对应起来。(填字母) ①: _____ ②: _____

③: _____ ④: _____ ⑤: _____

请依据史料②并结合所学知识回答, 为什么说张骞出使西域的举动是“凿空”? (7 分)

材料二 经过魏晋南北朝时期的民族融合, 隋唐的民族政策表现得较为开明……唐朝统治前期, 国家统一, 政治清明, 经济繁荣, 国力强盛。其民族政策以怀柔, 招抚为主, 对边疆民族采取的和亲政策次数之多, 持续时间之长是历代王朝所无法比拟的。上述举措产生了良好的政策效果, 使统一多民族封建国家得到进一步巩固和发展。

——摘编自马大正《中国古代的边疆政策与边疆治理》

(2) 根据材料二概括唐朝对边疆民族治理政策的特点。并分析该特点形成的原因。(5 分)

材料三 清朝经略边疆的举措

地区	内容
东南	1684 年清朝在台湾设府, 隶属福建省。
西北	平定准噶尔叛乱和大、小和卓叛乱。1762 年设 (A) 管辖新疆地区。
西南	册封达赖、班禅, 1727 年设置 (B), 1793 年颁布《钦定藏内善后章程》29 条, 以法律形式明确和落实中央政府对西藏地方的管辖权。

材料四 多民族是我国的一大特色, 也是我国发展的一大有利因素。各民族共同开发了祖国的锦绣河山、广袤疆域, 共同创造了悠久的历史、灿烂的中华文化。今天, 面对统一多民族国家的基本国情, 我们要在与各民族平等相待的过程中铸牢中华民族共同体意识。在中国共产党的领导下, 在中华民族大家庭中, 更加团结一致地为实现伟大复兴中国梦不懈奋斗。

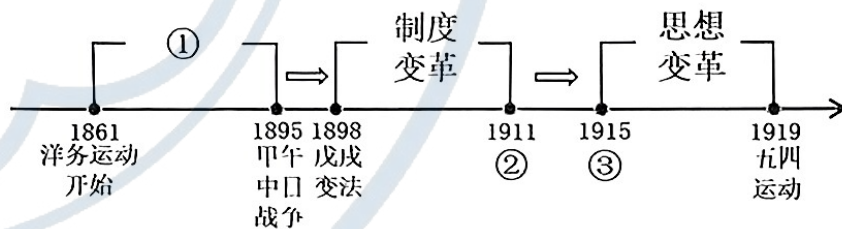
——陈永亮《“四个共同”: 统一的多民族国家理论的多维解析》

(3) 请完成材料三中的填空。综合以上所有材料并结合所学知识, 谈谈你对铸牢中华民族共同体意识的认识。(5 分)

27. 坚持道路自信是实现中华民族伟大复兴的必由之路。

【探索之路】

材料一 《探索中国近代化道路进程图》



(1) 请结合所学知识完成材料一中的填空。(4 分)

【革命之路】

材料二 从大革命失败到全民族抗日战争前夕（1927年—1937年）这十年，中国共产党人认识到了武装斗争的重要性，开辟了革命新道路，壮大了革命力量，探索了政权建设，开始确立了以毛泽东为代表的马克思主义正确路线在中共中央的领导地位，建立了广泛的统一战线。在险恶环境中，沉着应对，埋头苦干，奇迹般地度过最黑暗的时刻，开创出新的局面。

——《中国共产党简史》

(2) 请依据材料二并结合所学知识，列举出1927年“中国共产党人认识到了武装斗争的重要性”发动的武装起义名称？“开辟了革命新道路”是指什么？“开始确立了以毛泽东为代表的马克思主义正确路线在中共中央的领导地位”是在哪一历史事件中完成的？（6分）

【创新之路】

材料三 1992年（中共十四大）明确提出……这一伟大创举，使中国的改革开放和现代化建设进入了新的阶段……道路自信是对发展方向和未来命运的自信，坚持道路自信就是要坚定走中国特色社会主义道路，这是实现现代化的必由之路，是由近代历史反复证明的客观真理。

——《中国共产党九十年·改革开放和社会主义现代化建设新时期》

(3) 请依据材料三并结合所学知识回答，“这一伟大创举”指什么？请依据材料三概括在我国现代化建设新时期，坚持道路自信的基本内涵是什么？（6分）

28. 阅读材料，回答问题。

材料一 战争结束后，战胜国在1919年和1921—1922年分别召开了巴黎和会与华盛顿会议，与会各国缔结了以《凡尔赛条约》和《九国公约》为代表的一系列国际条约，在全球范围内建立了帝国主义的国际新秩序。有人评论道：“一战后战胜国以强权政治原则建立了新秩序，却为新的国际冲突埋下了祸根。”

——摘编自徐蓝《20世纪国际格局的演变》

(1) 请依据材料一并结合所学知识回答，一战后建立的国际新秩序是什么？请以《凡尔赛条约》为例谈谈对“一战后战胜国以强权政治原则建立了新秩序，却为新的国际冲突埋下了祸根。”的理解。（5分）

材料二 第二次世界大战结束后不久，美国采取攻势，挑起了冷战。美国之所以采取进攻……从政治上来说，美国政府的主要决策人极端仇视共产主义和苏联。从经济角度而言，美国资本家及其在政府中的代言人谋求世界对美国商业利益的开放。美国需要扩大海外市场以避免美国的经济陷于停滞和难以接受的失业。

——摘编自刘金质《冷战史（1945—1991）》

(2) 请依据材料二并结合所学知识概括美国挑起冷战的原因。（不得照抄材料原文）并结合所学知识，指出20世纪40年代美国采取冷战“攻势”的主要表现。（7分）

材料三 冷战的结束使世界形势发展的总趋势走向缓和……霸权主义和强权政治是引发当今世界局部冲突的重要根源……与旧国际格局相比，世界多极化趋势更能体现国际社会对公平正义与合作共赢的追求，更契合维护世界和平发展的深层次需求，更有助于全球治理体系的改革完善。

——摘编自金鑫、林永亮《共同推动世界多极化深入发展》

(3) 冷战结束的标志是什么？综合上述所有材料，谈谈你对国际格局演变的认识。（5分）

历史试题参考答案及评分标准

第 I 卷(选择题 共 50 分)

本卷共 25 小题，每题 2 分，共计 50 分。

题号	1	2	3	4	5	6	7	8	9	10	11
答案	C	C	D	A	C	B	A	C	B	A	A
题号	12	13	14	15	16	17	18	19	20	21	22
答案	B	C	B	C	A	C	B	D	C	C	B
题号	23	24	25								
答案	C	C	A								

第 II 卷(非选择题 共 50 分)

本卷共 3 道题，26 题 17 分，27 题 16 分，28 题 17 分 共 50 分。

26. (1) ① C ② B ③ E ④ A ⑤ D 5 分 张骞第一次开辟出中原通往西域的道路，中原王朝和西域各国有了第一次友好往来 2 分

(2) 政策较为开明；以怀柔、招抚为主；多次和亲 3 分 唐朝前期国家统一，政治清明；经济繁荣，国力强盛为其民族政策奠定基础 2 分

(3) A 伊犁将军 B 驻藏大臣 2 分 各民族共同开拓了中国疆域；共同创造了中国历史和文化；坚持民族平等、团结一致为实现伟大复兴中国梦不懈奋斗 3 分

27. (1) ① 器物（技术）变革 2 分 ② 辛亥革命 1 分 ③ 新文化运动 1 分

(2) 南昌起义、秋收起义等 2 分 农村包围城市，武装夺取政权的革命道路 2 分 遵义会议 2 分

(3) 建立社会主义市场经济体制 3 分 坚定走中国特色社会主义道路 3 分

28. (1) 凡尔赛-华盛顿体系 1 分 没有从根本上解决帝国主义国家间的矛盾；激起了德国人的复仇心理，为二战爆发埋下了隐患 4 分

(2) 与苏联存在国家战略、社会制度矛盾；发展资本主义经济的需要 4 分 推行杜鲁门主义；实施马歇尔计划；建立北大西洋公约组织 3 分

(3) 苏联解体 1 分 国家力量对比的变化影响国际格局的变化；（国际格局随时代的发展不断变化）弘扬公平正义、合作共赢有助于全球治理体系的改革完善等 4 分