



扫码下载试卷

2024年天津市初中学业水平考试 历史模拟试卷(三)(开卷)

道德与法治和历史合场考试,合计用时120分钟。

本试卷分为第I卷(选择题)、第II卷(非选择题)两部分。试卷满分100分。

第I卷(本卷共25题,每题2分,共50分)

在每题列出的4个选项中,只有一项是符合题目要求的。

- 春秋时期,“德”的神秘意味开始减弱,更强调人的品德和理性,如文献记载:“鬼神非人实亲,惟德是依。”推崇文献中这一观点的先秦思想流派是()。
A. 墨家 B. 兵家 C. 儒家 D. 法家
- 下面是小刚在学习《秦统一中国》一课后摘录的笔记。

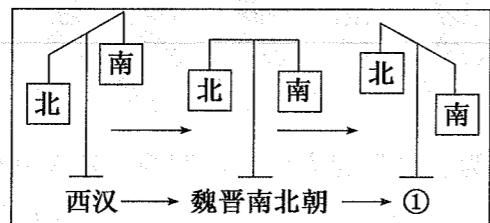
秦的统一,建立起“东至东海,西到陇西,北至长城一带,南达南海”幅员辽阔的国家。空前统一的封建国家促进了各民族的交往交流交融,推动了统一多民族国家政治、经济、社会的发展。

笔记内容反映的是()。

- A. 秦统一的背景 B. 秦统一的方式 C. 秦统一的过程 D. 秦统一的意义
- 据考古研究,西汉初年的王侯墓沿袭了战国墓制,坟丘高大,棺椁多重,以铜陶器陪葬。文景之后的墓中开始出现府邸建筑,还有丝织品、金银玉器、车马炊具等。这体现了()。
A. 封建礼教严密 B. 地方势力发展 C. 社会生产恢复 D. 奢靡之风盛行
 - 下表为汉武帝时期采取的治理措施,其反映的时代特征是()。


| | |
|----|--------------|
| 政治 | 颁布“推恩令”、设置刺史 |
| 经济 | 将铸币权收归中央 |
| 思想 | 尊崇儒术 |
| 军事 | 反击匈奴袭扰 |

- A. 早期国家的形成与发展 B. 统一多民族国家的巩固
C. 政权的更迭与民族交融 D. 奠定了现代中国的版图
- 南北朝时期,江浙的太湖流域、江西鄱阳湖流域、湖南洞庭湖流域和浙江东部的会稽地区,成为著名的产粮区。这表明()。
A. 经济重心实现南移 B. 南方地区得到开发 C. 南北经济趋于平衡 D. 江南农业发展鼎盛
 - 下面示意图显示了我国经济重心的南移经历了一个漫长的过程,与图中①相对应的历史时期应该是()。



- A. 北宋 B. 隋朝 C. 唐朝 D. 南宋

- 1689年,清政府在台湾发行“康熙通宝”钱币(如图),其背面刻有满文、汉文书写的“台”字。同时废止了原来的台湾地方货币。这表明清朝()。




- A. 货币铸造技术先进 B. 推行文化专制政策
C. 加强对台湾的有效管辖 D. 准备武力解放台湾
- 以下序列中,能正确反映近代中国逐步沦为半殖民地半封建社会进程的一组是()。
A. 《南京条约》——《马关条约》——《辛丑条约》
B. 《南京条约》——《马关条约》——《北京条约》
C. 《马关条约》——《北京条约》——《辛丑条约》
D. 《马关条约》——《辛丑条约》——《北京条约》
 - 1876年,英国传教士在上海创办的《格致汇编》设有“互相问答”栏目,其中大多问题是从读者的兴趣、关注点出发的。各类问题所占比例如表所示。

当时《格致汇编》“互相问答”栏目各类问题所占比例

| 应用科学、各种技术 | 自然常识 | 基础科学 | 奇异和其他问题 |
|-----------|-------|-------|---------|
| 42.5% | 22.8% | 17.5% | 17.2% |

据此推断,当时正在经历()。

- A. 洋务运动 B. 戊戌变法
C. 民族资本主义初步发展 D. 新文化运动
- 中国共产党某次会议提出:“我们希望社会上革命分子,大家都集中到中国国民党,使国民革命运动得以加速实现。”“本党一年以来号召的‘打倒军阀’‘打倒国际帝国主义’之国民革命运动,不是一条错误的道路。”这次会议是()。
A. 中共二大 B. 中共三大 C. 中共八七会议 D. 中共洛川会议
 - 下图是民国27年张乐平先生创作的漫画《唯有军民合作,才能歼灭敌人》。该漫画反映了()。



- A. 全民族抗战必胜的信念 B. 国共合作抗日的团结精神
C. 抗日战争即将取得胜利 D. 抗日民族统一战线的建立
- 下面照片的标题是:人民解放军参战部队在海河金汤桥上胜利会师。它记录的重大事件是()。



- A. 平型关大捷
B. 挺进大别山
C. 平津战役
D. 渡江战役

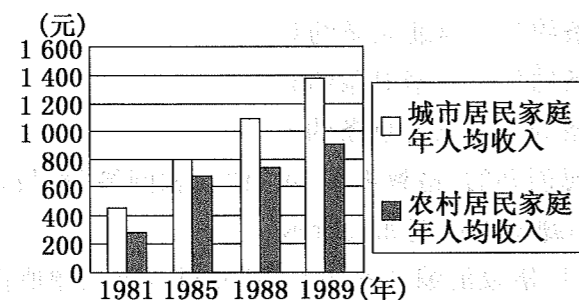
13. 我国在“一五”计划期间,创造了许多在中国历史上的第一,以下诞生在天津的是()。

- A. 第一座露天煤矿
- B. 第一块国产手表
- C. 第一架喷气式歼击机
- D. 第一个制造机床的工厂

14. 1948 年的最后一天,由香港驶出的货轮“阿尔丹”号船上一乘客即兴赋诗一首:“同舟共济,一心一意,为了一件大事!一件为着参与共同建立一个独立、民主、和平、统一、康乐的新中国的大事。”这些乘客前往参加的会议是()。

- A. 重庆政治协商会议
- B. 中共七届二中全会
- C. 中国人民政治协商会议
- D. 全国人民代表大会

15. 如图是我国某地城乡居民年人均收入情况,城乡收入能迅速增长是因为()。



- A. 改革开放的实行
- B. 家庭联产承包责任制的推行
- C. 城市经济体制改革
- D. 经济特区的建立

16. 20 世纪 50 年代,中国开展独立自主的和平外交,取得了许多成就。下列外交成就属于这一时期的是()。

- A. 中国首次提出和平共处五项原则
- B. 新中国恢复在联合国的合法权利
- C. 中美两国开始走向关系正常化
- D. 上海合作组织成立

17. 1972 年 2 月,周恩来总理向毛主席汇报:“他高兴地走了。他说他这一周改变了世界。”毛主席说:“我看还是世界改变了他。”他们在议论的事情是()。

- A. 基辛格访华
- B. 尼克松访华
- C. 中国重返联合国
- D. 中美建交

18. “这是一个具有高度标志性的事件,它表明中国的航天技术在 21 世纪已经走在了欧洲和日本的前面。”这里的“它”指的是成功发射了()。

- A. “长征一号”航天运载火箭
- B. “东方红一号”人造地球卫星
- C. “神舟五号”飞船
- D. “神舟七号”飞船

19. 苏美尔人是公元前 5000 年左右迁徙到西亚两河流域南部地区居住的一支古老民族。他们为世界文化的发展作出了不可磨灭的贡献。苏美尔人()。

- A. 建造金字塔
- B. 制定首部太阳历
- C. 发明了 60 进制
- D. 实行种姓制度

20. 有学者统计,中国 1685 年人口约为 1 亿,1767 年约为 2 亿,1790 年约为 3 亿,此间人口增长的重要因素来自新的作物从新大陆直接或间接传入中国。“新作物”最有可能是()。

- A. 玉米和甘薯
- B. 小麦和水稻
- C. 甘薯和小麦
- D. 水稻和玉米

21. 某部法律阐明了人权、民主、平等和法治的观念和保护私有财产的原则,体现了摧毁封建君主专制的要求,对后世产生了深远影响。该法律文献是()。

- A. 《民法大全》
- B. 美国 1787 年宪法
- C. 《人权宣言》
- D. 《法国民法典》

22. 巴黎公社尽管仅存在 72 天,但作为无产阶级革命的崭新创举,对人类社会的发展和世界历史的影响都具有重要意义。“崭新创举”表现在()。

- A. 反对资产阶级斗争
- B. 成立工人阶级政党
- C. 推动国际工人联合
- D. 建立无产阶级政权

23. 如图是 20 世纪两大国际组织的徽章。其中联合国徽章是由橄榄枝环绕的世界地图和五个同心圆组成的地图纬线构成。联合国徽章突出理念是()。

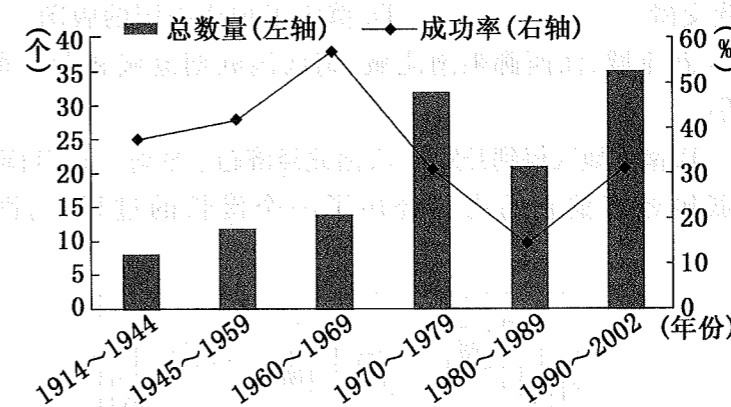


- A. 民族自决
- B. 世界和平与团结
- C. 大国一致
- D. 种族和解与共存

24. “日本所窃取于中国之领土,例如东北四省、台湾、澎湖群岛等,归还中华民国;其他日本以武力或贪欲所攫取之土地,亦务将日本驱逐出境。”上述内容出自()。

- A. 《论联合政府》
- B. 《联合国家宣言》
- C. 《开罗宣言》
- D. 《对日寇的最后一战》

25. 二战后,美国一直利用其霸主地位对一些国家实施严厉的经济制裁,成为实施经济制裁频率最高的国家,经济制裁已成为美国几乎所有外交问题的首选解决方案。20 世纪 70 年代以来美国越来越力不从心(如下图),这主要是因为()。




美国作为主要发起方的经济制裁件数及其效果趋势图

- A. 经济全球化和政治多极化的发展
- B. 美国军事实力大大下降
- C. 亚非拉国家的新发展
- D. 欧洲联盟不再追随美国

第Ⅱ卷(本卷共3题,共50分)

26. (16分)除了我们的历史教科书以外,博物馆、史学专著、论著、历史遗迹、遗址等都是很好的历史学习资源。请完成以下学习探究任务。

任务一 布置展品,拟定主题。



刻有文字的龟甲



利簋及铭文

(1)请分别写出上面两幅展品所处的朝代。请结合所学知识为上述系列展拟定一个专题名称。(5分)

任务二 制作表格,归纳知识。

| 政治方面 | | 经济方面 |
|-----------|----------|---|
| 宋太祖强化中央集权 | 军事上:控制兵权 | 宋朝面临中国有史以来最为显著的进步:城市勃兴,内陆河流舟楫繁密,造船业也突飞猛进。中国国内贸易与对外贸易都达到了空前的高峰。铜钱之流通也创造了新纪录,之后再未有任何朝代打破。 |
| | 在中央:① | |
| | 在地方:② | |

(2)完成上表中的填空。结合所学知识简述宋朝在“都市商贸”“对外贸易”方面显著进步的表现。(6分)

任务三 探究材料,还原历史

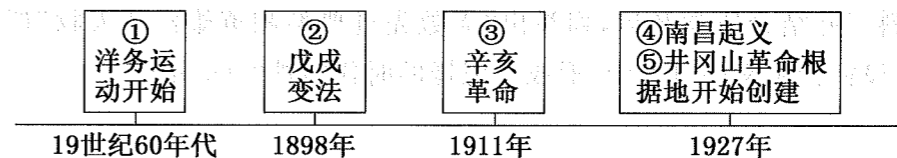
宋代的官员大多是有高度文化修养的士大夫,他们的享乐方式通常是轻歌曼舞,浅斟低唱。宋代文人大多实现了社会责任感和个性自由的整合,他们用诗文来表现有关政治、社会的严肃内容,词则用来抒写纯属个人私生活的幽约情愫。这样的分工对词的发展大有好处。都市繁荣,民间的娱乐场所也需要大量的歌词,士大夫的词作便通过各种途径流传于民间。

——摘编自袁行霈《中国文学史》

(3)请根据上面材料概括宋词繁荣的原因。请用一个关键词概括任务二、三中所展现的宋朝风貌。(5分)

27. (16分)阅读下列材料,回答问题。

材料一



关于走什么路的问题,应该区分不同层次做具体分析。……所谓“走俄国人的路”是针对“走西方人的路”来说的……我们应该在马克思主义指导下,从中国具体实际出发,走自己的路。

——摘编自周新城《关于“走俄国人的路”的辨析》

(1)综合上述材料并结合所学知识,请给材料一拟一个恰当的标题:_____。将材料一所示历史事件进行归类,属于“走西方人的路”的是_____;属于“走俄国人的路”的是_____;属于“走自己的路”的是_____。(填写编号即可)(5分)

材料二 下表为毛泽东年谱(部分),列举了他对中国革命产生重大影响的事件。

| 年代 | 事件 |
|----------|---|
| 20世纪20年代 | 1921年出席中共一大。 1927年创建井冈山革命根据地 |
| 20世纪30年代 | 1931年在江西瑞金召开中华苏维埃第一次全国代表大会,宣布成立中华苏维埃共和国临时中央政府,毛泽东当选为中央执行委员会主席和中央执行委员会人民委员会主席。 1935年1月出席遵义会议,被增选为中央政治局常委。 1935年底在中共中央瓦窑堡会议上作重要报告 |
| 20世纪40年代 | 1945年4月中共七大确立毛泽东思想为党的指导思想。 1945年8—10月亲赴重庆与国民党进行和平谈判。 1949年3月在中共七届二中全会上发表讲话 |

(2)根据上表并结合所学知识,为20世纪30年代补充一件大事并简要说明理由。(6分)

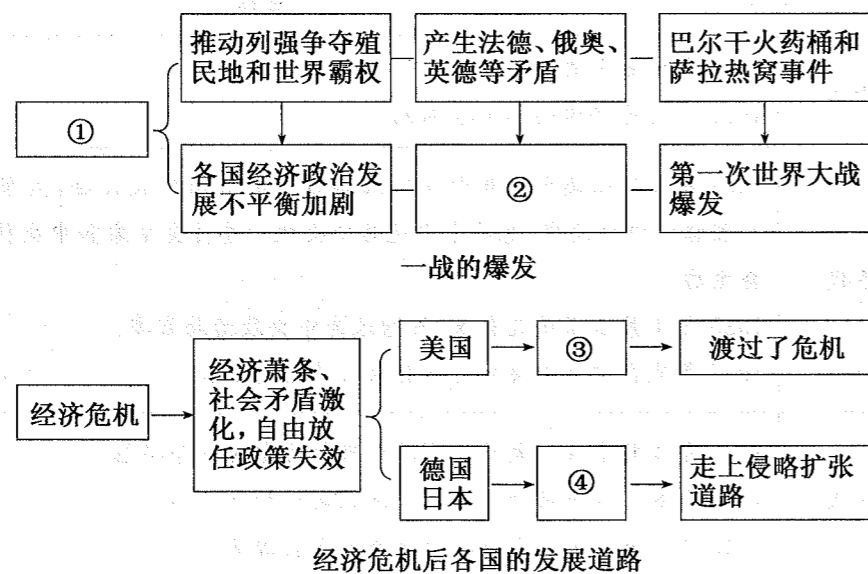
材料三 从新中国成立到改革开放前,中国共产党领导人民艰辛探索适合中国国情的社会主义道路,虽然经历了严重挫折,但总体上取得了举世瞩目的重要成果。广大人民自力更生、艰苦奋斗,涌现出无数先进典型和英雄模范人物,形成了具有特定内涵的时代精神。

——摘编自当代中国研究所《中华人民共和国史稿》

(3)请依据材料三并结合所学知识,列举出“无数先进典型和英雄模范人物”群体中三位杰出代表。在全面建设社会主义的过程中,形成了怎样的时代精神?(5分)

28. (18分)当今世界充满不确定性,人们对未来既寄予期待又感到困惑。世界怎么了?我们怎么办?这是整个世界都在思考的问题。某学校就此问题制定了学习任务单,请你完成任务。

任务一 回首百年历史,人类经历了劫难也收获了发展。



(1)请完成上述示意图中的填空。请结合所学知识分别写出两次世界大战后形成的国际秩序的名称。(8分)



任务二 接过历史接力棒,一起向未来。

当今时代世界多极化、经济全球化、社会信息化、文化多样化深入发展,全球治理体系和国际秩序变革加速推进,各国相互联系和依存日益加深,国际力量对比更趋平衡,和平发展大势不可逆转。与此同时,世界面临的不稳定性、不确定性突出,人类面临许多共同的挑战,需要各国携手解决。

——摘编自《新时代的中国与世界》白皮书(2019年9月)

(2)结合所学知识回答,冷战结束后世界格局出现了什么样的新特点,促使20世纪八九十年代以来世界经济全球化趋势加强的主要原因是什么?(5分)

(3)结合所学知识,简述当今世界人类面临的主要问题、挑战是什么,综上所述并结合所学知识,指出中国对当代世界和平与发展提供的中国智慧、中国方案是什么。(5分)