



扫码下载试卷

2024年天津市初中学业水平考试 历史模拟试卷(二)(开卷)

道德与法治和历史合场考试,合计用时120分钟。

本试卷分为第I卷(选择题)、第II卷(非选择题)两部分。试卷满分100分。

第I卷(本卷共25题,每题2分,共50分)

在每题列出的4个选项中,只有一项是符合题目要求的。

- 据考古发现,距今约3万年的山顶洞人,在其居住的“上室”地面中间发现一堆灰烬,底部的石钟乳层面和洞壁的一部分被烧炙。这说明他们()。
 - 使用粗糙打制石器
 - 居住半地穴式房屋
 - 已经懂得人工取火
 - 政治上实行禅让制
- “汉家西域是谁开,博望功成事可哀。断送壮夫知几许,换将胡物过东来。”诗歌意在强调()。
 - 张骞为东西交流作出巨大贡献
 - 汉武帝以武力促进东西方交流
 - 班超开通西域带来的积极影响
 - 丝路开通的意义在于物品交换
- 通过对比来认识历史是一种很好的学习方法,下表对比了隋朝与前朝选官制度的主要不同,由此可知,隋朝实行()。

项目	前朝	隋朝
选拔依据	家族名望	考试成绩
选官权力	在地方	集中到中央

- 世袭制
- 郡县制
- 三省六部制
- 科举制

- 1868年被称为“美国文官改革之父”的詹克斯在向国会提交的文官改革议案中,对中国的科举制度作了全面的介绍,引起了国会议员的广泛关注,随后美国文官制度的基本原则确定下来。以上文字旨在表明科举制的()。
 - 历史背景
 - 演变进程
 - 消极影响
 - 积极影响

- 下面是小文同学制作的古代中国政治制度演变思维导图,请你为它确定一个主题()。

周朝分封制 → 秦朝在全国推行郡县制 → 汉初实行郡国并行制 → 元朝实行行省制

- 地方行政制度演变
- 君主专制制度演变
- 选官制度演变
- 赋役制度演变

- 1288年桑哥向忽必烈奏请,根据唐朝皇帝在宣政殿接待吐蕃使臣之例,将总制院更名为宣政院。宣政院的设立在国家发展上的重要意义是()。
 - 结束诸侯割据实现全国统一
 - 有利于经济重心南移
 - 对西藏正式行使行政管辖
 - 进一步加强皇权

- 在中国古代某时期,来自美洲的玉米、番薯等作物的传入,是促成中国人口增长、社会经济发展的重要原因。上述历史现象开始出现是在()。
 - 两汉时期
 - 隋唐时期
 - 宋元时期
 - 明清时期

- 《南京条约》
- 《天津条约》
- 《北京条约》
- 《马关条约》

- 近代清政府与某国所签条约文本中有:大英钦差(公使)各等大员及各眷属可在京师(北京),或长行居住等字样,据此可知上述条约可能是()。
 - 鸦片战争期间
 - 第二次鸦片战争期间
 - 甲午中日战争期间
 - 八国联军侵华战争期间

- 《南京条约》
- 《天津条约》
- 《北京条约》
- 《马关条约》

- “丹东一号”沉船经水下考古调查与研究,极有可能是爱国将领邓世昌率领官兵与敌军激战的致远舰。上述激战发生于()。
 - 鸦片战争期间
 - 第二次鸦片战争期间
 - 甲午中日战争期间
 - 八国联军侵华战争期间

- 鸦片战争期间
- 第二次鸦片战争期间
- 甲午中日战争期间
- 八国联军侵华战争期间

- 下面表格内容反映的历史事件是()。

类别	主要内容
政治	裁撤冗员,允许官民上书言事
经济	鼓励私人兴办企业,发展经济,改革财政
文教	废除八股,开办新式学堂
军事	裁减绿营,训练新式军队

- 定都天京
- 洋务运动
- 戊戌变法
- 辛亥革命

- 甲午中日战争后,张謇毅然弃政从商,陆续兴办了含大生纱厂在内的数十家企业,率先践行()。
 - “求强求富”道路
 - “实业救国”道路
 - 维新改良道路
 - 革命救国道路

- “求强求富”道路
- “实业救国”道路
- 维新改良道路
- 革命救国道路

- “随着武昌城头的枪声响起……清王朝犹如泥人一般摇摇欲坠。”材料描述的是()。
 - 太平天国
 - 戊戌变法
 - 义和团运动
 - 辛亥革命

- 太平天国
- 戊戌变法
- 义和团运动
- 辛亥革命

- 下列表述中,属于历史解释的是()。
 - 1901年清政府签订《辛丑条约》
 - 李鸿章创办江南机器制造总局
 - 长征胜利打开了中国革命的新局面
 - 1947年解放区开始土地改革

- 1901年清政府签订《辛丑条约》
- 李鸿章创办江南机器制造总局
- 长征胜利打开了中国革命的新局面
- 1947年解放区开始土地改革

- 标语可以用简洁的语言达到宣传的目的,下列标语出现于抗日战争期间的是()。
 - “外争主权,内除国贼”
 - “自己动手,丰衣足食”
 - “打倒蒋介石,解放全中国”
 - “抗美援朝,保家卫国”

- “外争主权,内除国贼”
- “自己动手,丰衣足食”
- “打倒蒋介石,解放全中国”
- “抗美援朝,保家卫国”

- 1949年某期《人民日报》报道:“中国人民从此有了屹立于世界和平民主阵营的祖国,有了真正能保护自己、代表自己的政府。”其评述的是()。
 - 解放军向全国进军
 - 中国人民政治协商会议召开
 - 中华人民共和国成立
 - 第一届全国人民代表大会召开

- 解放军向全国进军
- 中国人民政治协商会议召开
- 中华人民共和国成立
- 第一届全国人民代表大会召开

成绩
姓名
班级
学号


16. 1992年,中国共产党第十四次全国代表大会明确提出要建立社会主义市场经济体制。上述时间采用世纪纪年法应是()。

- A. 18世纪90年代
B. 19世纪90年代
C. 20世纪90年代
D. 21世纪90年代

17. 某校历史研究小组收集了以下图片资料,准备完成一篇研究报告,据此判断他们的关注点是()。



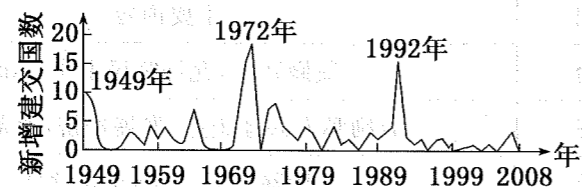
“辽宁舰”



歼-20战机

- A. 民族团结
B. 国防建设
C. 港澳回归
D. 社会生活

18. 下图是1949—2008年中国与外国建交情况曲线图。在下列各选项中,建交最高峰出现的主要原因是()。



- A. 在万隆会议上赢得了尊重
B. 中苏建交
C. 中美关系开始走向正常化
D. 中国加入了世界贸易组织

19. 它使法兰克王国在封建贵族内形成了一种新的制度,提高了法兰克王国的政治和军事力量,促进了西欧封建社会的发展。这里的“它”指的是()。

- A. 庄园法庭的出现
B. 封君封臣制
C. 大学的兴起
D. 种姓制度

20. 小晨同学收集某历史事件的相关信息如下:人们逐渐相信地球是圆的;15—16世纪葡萄牙宽身帆船结构图;世界开始连为一个整体。这个历史事件是()。

- A. 丝绸之路开通
B. 亚历山大东征
C. 阿拉伯帝国扩张
D. 新航路开辟

21. 揭开英国资产阶级革命序幕的是()。

- A. 1215年颁布《大宪章》
B. 13世纪确立议会制度
C. 1640年议会重新召开
D. 1649年处死查理一世

22. 1848年伦敦出版的一部文献,开辟了国际工人运动和社会主义运动的新局面。该文献是()。

- A. 《权利法案》
B. 《人权宣言》
C. 《共产党宣言》
D. 《资本论》

23. 今天我们用电话联络,在电灯下学习,坐汽车、飞机出行。以上情景全部出现,最早可见于()。

- A. 新航路开辟时期
B. 早期殖民扩张时期
C. 第一次工业革命时期
D. 第二次工业革命时期

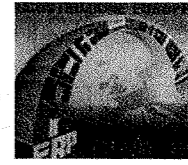
24. 小刚同学在历史知识拓展活动中搜集了以下素材,该拓展活动的主题应为()。



丘吉尔“铁幕演说”



杜鲁门主义出台



马歇尔计划宣传画

- A. 冷战
B. 第三世界崛起
C. 国际工人运动
D. 社会保障制度建立

25. 一些标志性事件往往成为定格历史的坐标。对此,下列叙述正确的是()。

- A. 诺曼底登陆标志着第二次世界大战的扩大
B. 北约的建立标志着冷战的开始
C. 纳米比亚独立标志着帝国主义在非洲殖民体系的最终崩溃
D. 苏联解体标志着社会主义运动的失败

第Ⅱ卷(本卷共3题,共50分)

26. (17分)阅读材料,回答问题。

材料一 宋代继承发展了自汉朝以来的海外交通航线……与宋通商的国家除了日本、高丽以外,还有散布于中南半岛、南海群岛、印度半岛、阿拉伯半岛以及东北非洲海岸的各国……先后在广州、明州、杭州等处设置市舶司或市舶务,主管进出口贸易……宋仁宗皇祐年间,岁入53万余贯,南宋高宗时达200万余贯。

——摘编自李春棠、侯力主编《中国古代史教程》

(1)汉朝开辟的从东南沿海出发,穿越东南亚多地,到达印度半岛南端的海上航线被称作什么?根据材料一概括两宋时期海外贸易发展的特点。(5分)

材料二 中国宋代实现了社会经济的跃进,都市的发达,知识的普及。与欧洲文艺复兴现象比较,应该理解为并行和等值的发展,因而宋代是十足的“东方的文艺复兴时代”。

——摘编自[日]宫崎市定《东洋的近世》

(2)请指出材料二的核心观点是什么。宋代的造船技术、都市商贸都居当时世界领先地位,请结合所学知识列出宋代造船业中心及代表性大都市的名称。(7分)

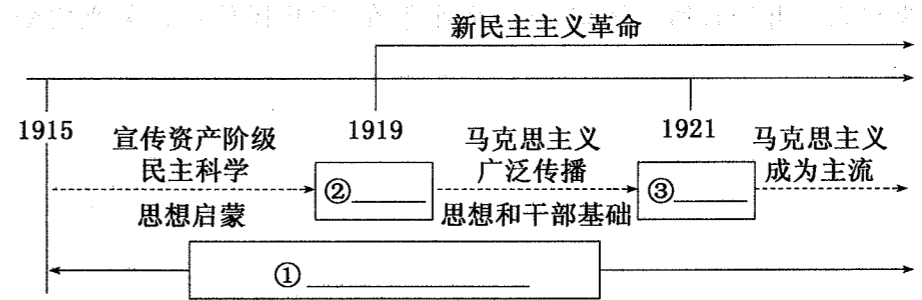
材料三 宋朝由于政治机构重叠,官吏冗余,增加了朝廷的财政支出,再加之庞大的军费开支,形成积贫。文臣掌兵,不熟悉军务,而将不专兵,兵无常帅,导致军队的战斗力较低,国家内外交困,形成积弱。

——漆侠《王安石变法》

(3)请概括材料三的主要观点,并结合所学知识,分析材料二和材料三对宋代的评价为什么截然不同。(5分)

27. (17分)近代以来,中国人民一直致力于追求中华民族复兴之梦。阅读材料,完成下列要求。

材料一




(1)根据材料一和所学知识,完善思维导图中①②③处的信息。并根据思维导图和所学知识,归纳中国共产党成立的条件。(6分)

材料二 抗日战争是近代以来中国人民反抗外敌入侵持续时间最长、规模最大、牺牲最多的民族解放斗争,也是第一次取得完全胜利的民族解放斗争。这个伟大胜利,是中华民族从近代以来陷入深重危机走向伟大复兴的历史转折点,也是世界反法西斯战争的重要组成部分,是中国人民的胜利,也是世界人民的胜利。

(2)请依据材料二并结合所学知识,谈谈你对“抗战胜利是中华民族走向伟大复兴的历史转折点”的理解。(6分)

材料三 20世纪90年代初深圳市中心深南大道上,有一幅邓小平巨幅画像,画像前行人如织。
 (3)中共十一届三中全会后,中国迈出对外开放的步伐,1980年中央决定兴办的4个经济特区是哪些?请依据材料三并结合所学知识,谈谈邓小平在“中华民族追逐复兴之梦”伟大征程中的作用。(5分)



材料二 珍妮纺纱机的发明者哈格里夫斯原是织工,后来做了木匠;骡机的发明者克伦普顿是个纺纱工兼织工;只有瓦特具有一定的科学知识……在19世纪后半期,随着自然科学特别是热力学、电磁学、化学等方面的新发展,科学研究开始与工业生产紧密地结合起来,在技术上取得一系列重大的突破,并带动了相应的许多新兴工业部门的兴起。

(节选自)吴于廑、齐世荣主编《世界史·近代史编》

(2)请概括材料二的主要观点,并结合所学知识回答“在技术上取得一系列重大的突破”中最显著的成就是什么。(5分)

28. (16分)阅读材料,回答问题。

材料一 英国的优越地位在十八世纪归功于优越的政治制度……在十九世纪初期则几乎完全归功于机械技术。在1740年,“效法英国”一词已经成为人们的口头禅,而到1830年,英国已成为“工业欧洲的老师”……

——[英]C. W. 克劳利《新编剑桥世界近代史》第九卷

(1)请依据材料一并结合所学知识,回答材料一中所说的“优越的政治制度”是指什么,促成英国成为“工业欧洲的老师”的重要原因是什么?(6分)

材料三



图1



图2

(3)根据材料三,说明图1、图2现象共同依托的现代技术是什么,并谈谈这一现代技术对你的日常学习、生活产生了哪些影响。(5分)