



扫码下载试卷

# 2024年天津市初中学业水平考试 历史模拟试卷(一)(开卷)

道德与法治和历史合场考试,合计用时120分钟。

本试卷分为第I卷(选择题)、第II卷(非选择题)两部分。试卷满分100分。

## 第I卷(本卷共25题,每题2分,共50分)

在每题列出的4个选项中,只有一项是符合题目要求的。

1. 相传黄帝已能建造宫室以避寒暑,制作衣裳,挖掘水井,制造船只,会炼铜,并发明了弓箭。这些远古传说( )。
- A. 传递出某些历史信息,有待进一步证实 B. 传递出的历史信息,有十分确凿的物证  
C. 无任何科学的依据,是后人的主观想象 D. 无任何考古证据依托,纯属美好的传说
2. 下列图片中最能反映夏、商、西周时期高度发达文明的是( )。



①人面鱼纹彩陶盆 ②四羊方尊 ③刻有文字的甲骨 ④铁制农具

- A. ①②③④ B. ①②③ C. ②③ D. ③④
3. 有人曾经说:“商鞅相孝公,为秦开帝业。”这一评价说明( )。
- A. 秦孝公确立皇帝制度 B. 秦国是春秋最强国  
C. 秦孝公时统一了六国 D. 商鞅变法成效巨大
4. 陆上丝绸之路是古代连接亚欧的重要商路,对开通此商路功劳最大的人物是( )。
- A. 蒙恬 B. 卫青 C. 班超 D. 张骞
5. 魏晋以来,内迁的各族人民向汉族人民学习农业技艺,逐渐由从事畜牧业生产转变为从事农业生产。汉族人民向北方各族人民学习畜牧经验,还学习和接受他们的食物、服装、用具等。这反映出当时( )。
- A. 丝绸之路始通 B. 民族交融加强 C. 北方经济发达 D. 南北政权分立
6. 如果你要研究明朝的手工业生产技术,应查阅的主要文献是( )。
- A. 《农政全书》 B. 《天工开物》 C. 《梦溪笔谈》 D. 《本草纲目》
7. 下表为古代河南、江苏两地科举考试状元人数表。表中呈现的变化反映了( )。

地点	唐	宋	明	清
河南	15	16	2	1
江苏	7	8	17	49

- A. 江苏地区迁入人口最多 B. 科举制影响力不断扩大  
C. 河南地区经济发展停滞 D. 经济发展促进文化兴盛

8. 唐朝政府编写颁布的《唐本草》,是世界上第一部由国家制定的药典;宋朝颁行了多部官修本草;明朝李时珍撰成药物学集大成之作《本草纲目》,由朝廷颁行。这些史实主要表明,我国古代中医药学的发展,得益于( )。

- A. 印刷技术的进步 B. 科举制度的完善 C. 商品经济的繁荣 D. 国家力量的支持

9. 下列条约直接便利了帝国主义对中国进行资本输出的是( )。

- A. 《南京条约》 B. 《天津条约》 C. 《马关条约》 D. 《辛丑条约》

10. 从下图中展示的时代强音中可以领悟到那个时代的一大特征是( )。

时代强音

①苟利国家生死以,岂因祸福避趋之。  
②愿人人战死而失台,决不愿拱手而让台。  
③国家多难,军人应当马革裹尸,以死报国。

- A. 内忧与外患 B. 屈辱与抗争 C. 变法与图强 D. 落后与变革
11. 19世纪70年代开始,洋务派以“求富”为目的兴办了一批近代民用企业,其中有( )。
- A. 安庆内军械所 B. 开平煤矿 C. 福新面粉公司 D. 大生纱厂
12. 状元实业家张謇认为:“孙中山之革命,则为国体之改革,与一朝一姓之变迥然不同。”对其中“国体之改革”理解正确的是( )。
- A. 终结了君主专制制度 B. 改变了中国的社会性质  
C. 建立了君主立宪政体 D. 结束了列强对中国的侵略
13. 这场运动是“中国旧民主主义革命走向新民主主义革命的转折点,在近代以来中华民族追求民族独立和发展进步的历史进程中具有里程碑意义”。“这场运动”指的是( )。
- A. 洋务运动 B. 戊戌变法 C. 五四运动 D. 北伐战争
14. 从研究抗日战争史的角度,下列内容中属于原始史料(一手史料)的是( )。
- ①连环画《平型关大捷》 ②电影《血战台儿庄》  
③彭德怀亲临百团大战前线指挥(照片) ④抗战家书
- A. ①② B. ①③ C. ②④ D. ③④
15. 某次战役前,中国共产党领导的军队的部署为:1个纵队加6个独立师继续包围长春之敌;以主力6个纵队另4个师攻歼锦州之敌;以5个纵队阻滞长春之敌突围。这次战役是( )。
- A. 平津战役 B. 辽沈战役 C. 淮海战役 D. 渡江战役
16. 在抗日救亡运动的洪流中,由聂耳作曲、田汉作词,表达了一代青年“天下兴亡,匹夫有责”的爱国激情,后被定为中华人民共和国国歌的伟大作品是( )。
- A. 《义勇军进行曲》 B. 《毕业歌》 C. 《黄河大合唱》 D. 《渔光曲》
17. 中华人民共和国成立时,面临着严峻的内外形势:外部有美国等西方国家的封锁和威胁;内部由于多年战乱,经济残破,困难重重。继而中国共产党领导中国人民( )。
- A. 召开政协会议和通过《中国人民政治协商会议共同纲领》  
B. 实行“一五”计划和开展三大改造  
C. 进行了抗美援朝和开展土地改革  
D. 实行经济体制改革和对外开放

18. “美国承认只有一个中国,台湾是中国领土的一部分,承认中华人民共和国政府是中国的唯一合法政府。”美国在1979年所持的这一立场,促使( )。
- A. 中美正式建立了外交关系      B. 中国恢复在联合国合法席位  
C. 中美关系开始走向正常化      D. 中日两国正式建立外交关系
19. 历史叙事和历史解释是历史认识的两个层面。所谓历史叙事,是叙述以往发生过的事件。而历史解释则是阐明历史发展的轨迹及其意义所在。下列表述中,属于历史解释的是( )。
- A. 金字塔是古埃及法老为自己修建的陵墓  
B. 公元前450年左右,罗马颁布《十二铜表法》  
C. 公元前6世纪,乔达摩·悉达多创立佛教  
D. 《汉谟拉比法典》是迄今已知世界上第一部较为完整的成文法典
20. “佃户取得份地的条件是义务耕种领主的‘自营地’,一般每周要在自营地上劳动3天,剩下的时间才属于自己。”这种生产组织形式遍布欧洲各地大约是在( )。
- A. 8世纪      B. 9世纪  
C. 10世纪      D. 11世纪
21. 文艺复兴代表人物达·芬奇的作品《蒙娜丽莎》以现实人物为主题,人物形象神态自若,嘴角含着一丝微笑,显得恬静,似乎又有些哀伤,富有生命的活力。这种作品出现的原因是( )。
- A. 美洲大陆的发现      B. “三角贸易”的兴盛  
C. 人文主义的兴起      D. 理性主义的兴起和发展
22. 促进了资本主义的产生和发展,使世界开始连成一个整体的历史事件是( )。
- A. 新航路的开辟      B. 文艺复兴的兴起  
C. 工业革命的完成      D. 一战的结束
23. 《独立宣言》是历史上“第一个人权宣言”,但保留了奴隶制;1787年美国宪法没有废除奴隶制,黑人按3/5人口折算。美国这些规定违背了( )。
- A. 联邦制原则      B. 自由平等原则  
C. 共和制原则      D. 三权分立原则
24. 目录索引是阅读书籍的方法之一。下列选项最适合作为下图中第六单元标题的是( )。



第六单元 第17课 君主立宪制的英国 第18课 美国的独立 第19课 法国大革命和拿破仑帝国
---

- A. 封建时代的欧洲      B. 走向近代  
C. 资本主义制度的初步确立      D. 战后初期的世界
25. 1750年以后,人口开始稳步地增长,欧洲人口在1750年时有1.4亿,到1800年时达到1.88亿,1850年时达到2.66亿,几乎每半个世纪增加40%。这种现象出现的主要原因是( )。
- A. 开放移民政策      B. 工业革命的促进  
C. 贩卖黑人奴隶      D. 城市化迅速发展

## 第Ⅱ卷(本卷共3题,共50分)



26. (16分)博物馆是典藏人文自然遗产的文化教育机构。某学校组织同学们开展以博物馆为主题的研究性学习活动,请在活动结束后完成本次研学任务单。

### 研学任务单一

典型文物	简介
 1. 刻辞卜甲	<p>现藏于安阳市殷墟博物馆,迄今殷墟已出土刻辞卜甲约15万片,记有5 000余单字,卜辞10万余条,内容涉及政治、经济、文化、天文气象等方面。</p>
 2. 西周大克鼎	<p>现藏于上海博物馆,在周代有所谓天子九鼎,诸侯七鼎,卿大夫五鼎,元士三鼎等使用数量的规定。鼎逐渐成为了权力的象征。</p>

(1)典型文物1刻辞卜甲上的文字在现今的统称是什么?典型文物2西周大克鼎可以为我国学习西周王朝哪一政治制度提供帮助?结合所学知识研判,大克鼎的材质是什么?(6分)

研学任务单二

典型文物	简介
 <p>3.“南海一号”沉船上的瓷碗</p>	<p>现藏于广东海上丝绸之路博物馆,1987年,在广东阳江海域发现一艘南宋时期从事远洋贸易的古船,船上载有数万件商品,该船被命名为“南海一号”。</p>
 <p>4.《布施锡兰山佛寺碑》拓片</p>	<p>现藏于南京博物院,记述了郑和船队到锡兰(今斯里兰卡)向当地佛寺布施香礼(金银、丝绸、瓷器等)的史实。</p>

(2)请依据材料并结合所学知识回答,宋代从事海外贸易的中国商船主要的贸易线路是什么?列举郑和下西洋是和平之举的相关史实。(不得照抄原文)(6分)

(3)结合上述研学活动,谈谈博物馆助力中学生历史学习的表现。(4分)

27.(18分)民族精神是国家文化建设的精髓,是无形的财富,是生生不息、代代传承的中华民族价值观的体现。

材料一

中国近代化探索历程(1840—1919年)

事件	描述	阶段	特点	精神
洋务运动 (19世纪60—90年代)	是中国近代化的开端	第一阶段 学习西方科学技术	层层递进, 由表及里, 逐渐深入	④
①	是中国政治近代化的一次重要尝试	第二阶段 学习西方政治制度		
辛亥革命 (1911年)	终结了中国君主专制制度,推动了中国进步潮流			
②	在共和体制并不足以革新国家之际,以一些更基本的东西来唤醒国家和人民	③		

(1)请结合所学知识完成上表中的填空。(8分)

材料二 1937年7月8日,中国共产党通电全国,号召“全中国同胞,政府,与军队,团结起来,筑成民族统一战线的坚固长城,抵抗日寇的侵略!”

1937年7月17日,蒋介石发表讲话:“如果战端一开,那就是地无分南北,年无分老幼,无论何人,皆有守土抗战之责,皆抱定牺牲一切之决心。”

(2)上述中国共产党通电和蒋介石讲话出现在怎样的时代背景之下?从这些话语中,你感受到了怎样的民族精神?(5分)

材料三 深圳特区在40余年里创造了许许多多“全国第一”：第一个打破“铁饭碗”“大锅饭”、取消粮油凭票供应，第一个商品房小区，第一张股票，第一次土地拍卖，第一家证券公司等。

——摘编自韩文嘉《深圳经济特区40年》

(3)深圳特区创造诸多全国第一靠的是什么精神？综合上述所有内容，谈谈弘扬民族精神与实现中华民族伟大复兴的关系。(5分)

28. (16分)阅读材料，完成下列要求。

材料一 1946年3月5日英国前首相丘吉尔在美国密苏里州发表了题为“和平砥柱”的演说：“从波罗的海的斯德丁(什切青)到亚得里亚海边的的里雅斯特，一幅横贯欧洲大陆的铁幕已经降下来”，他号召英美结成同盟，运用各种力量和手段对付共产主义。这篇演说，符合美国在战后的战略需要，拉开了冷战的序幕。

——齐世荣、廖学盛主编《20世纪的历史巨变》

(1)请依据材料一并结合所学知识回答，“美国在战后的战略需要”是指什么？冷战有哪些表现形式？(5分)

材料二 从经济角度看，美国不再是世界头号国家，世界也不再仅有两个超级大国。当今世界有五大经济力量中心。这意味着，与我们在第二次世界大战结束后所处的地位相比，美国面临着我们甚至连做梦也没有想到的挑战。

——摘译自《尼克松在堪萨斯城的讲话》英文版(1971年7月6日)

(2)请结合所学知识，指出材料二中的“当今世界有五大经济力量中心”具体指什么，20世纪70年代世界格局开始出现什么新变化？(7分)

材料三 随着苏联的解体，美苏间的冷战结束了，但是冷战的教训是极为深刻的。历史反复证明，冷战思维、阵营对抗、强权政治、以邻为壑等陈旧观念，早已背离时代潮流，不仅不能促进世界的和平与发展，相反只能给人类带来灾难与创伤。

——徐蓝主编《世界近现代史1500—2007》

(3)请根据材料三并结合所学知识，分析冷战带来的深刻教训，指出冷战结束后世界格局新的特点。(4分)