

2024 年河东区初中毕业生学业考试第二次模拟测试

历史试卷（开卷）

本试卷分为第 I 卷（选择题）和第 II 卷（非选择题）两部分。第 I 卷为第 1 页至第 5 页，第 II 卷为第 6 页至第 8 页。考试实行开卷；试卷满分 100 分。考试时间 60 分钟。

答卷前，请你务必将自己的姓名、考生号、考点校、考场号、座位号填写在“答题卡”上，并在规定位置粘贴考试用条形码。答题时，务必将答案涂写在“答题卡”上，答案誊在试卷上无效。考试结束后，将本试卷和“答题卡”一并交回。

祝你考试顺利！

第 I 卷 选择题（共 50 分）

注意事项：

1. 每题选出答案后，用 2B 铅笔把“答题卡”上对应题目的答案标号的信息点涂黑。如需改动，用橡皮擦干净后，再涂其他答案标号的信息点。

2. 本卷共 25 题，每题 2 分，共 50 分。在每题给出的四个选项中，只有一项最符合题意。

1. 研究者发现，位于山西省襄汾的陶寺都城遗址，有宫城、观象台、礼器等，认为当时的黄河中游地区，已经出现早期国家。要获得该遗址最可信史料是通过

- A. 神话传说
- B. 史书记载
- C. 考古发掘
- D. 学者推断

2. 他首创私学，主张“有教无类”，促进了教育在民间的发展。他是


- A. 孔子
- B. 老子
- C. 墨子
- D. 韩非子

3. 湖北云梦出土《睡虎地秦墓竹简》中有一篇《封诊式》，记载了一个乡村里长发现麻风病疑似患者并向上报告的事例。通过此则材料可以了解秦代

- A. 休养生息政策的实行
- B. 分封制度的推行
- C. 法律制度的严酷
- D. 基层管理的状况



4. 下图为某个朝代告身（官员接受官职的凭证）书写格式示意图。它从侧面反映该朝



- A. 三公九卿制 B. 三省六部制 C. 科举制 D. 军机处

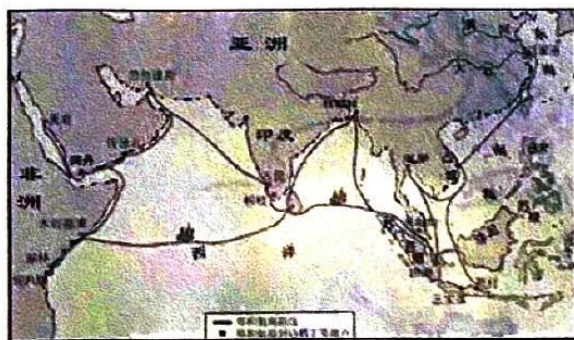
5. 北宋沈括在《梦溪笔谈》中记载：“若止印三二本，未为简易；若印数十百千本，则极为神速。”该书中记载的是

- A. 造纸术 B. 活字印刷术 C. 指南针 D. 火药

6. 郑成功在致荷兰总督的招降书中说：台湾者，中国之土地也，久为贵国所踞，今余既来索，则地当归我……。下列能印证郑成功这一结论的是

- A. 设置北庭都护府负责管理 B. 设置驻藏大臣监督地方政务
C. 设置台湾府隶属福建省 D. 设置澎湖巡检司负责管理

7. 下图为郑和航海路线图。对郑和下西洋的影响表述正确的是



- A. 增加了明朝政府的财政收入 B. 导致了明末农民大起义爆发
C. 加强了明朝与亚非诸国的联系 D. 巩固了统一多民族国家的发展

8. 一位俄国记者记述了1900年6月2日发生在天津火车站的一幕：月光照耀着这些莽汉，照耀着他们的大刀和旗帜。一排排子弹射过去，大旗倒了，又举了起来，接着又倒了下去。该场景描写的是

- A. 天津民众自发抗击英法联军侵略 B. 太平军抗击洋枪队
C. 义和团抗击八国联军的斗争 D. 三元里民众抗英斗争



9. 历史叙述包括史实与评价。下列关于“辛亥革命”的叙述，属于评价的是

- A. 1905年8月孙中山在日本东京成立了中国同盟会
- B. 1912年1月1日中华民国临时政府成立
- C. 1912年2月12日宣统帝下诏退位，清朝统治结束
- D. 辛亥革命开创了完全意义上的近代民族民主革命

10. 张謇在兴办实业的同时，积极兴办教育和社会公益事业，造福乡梓，帮助群众，影响深远，是中国民营企业家的先贤和楷模。能体现他实业家精神的是

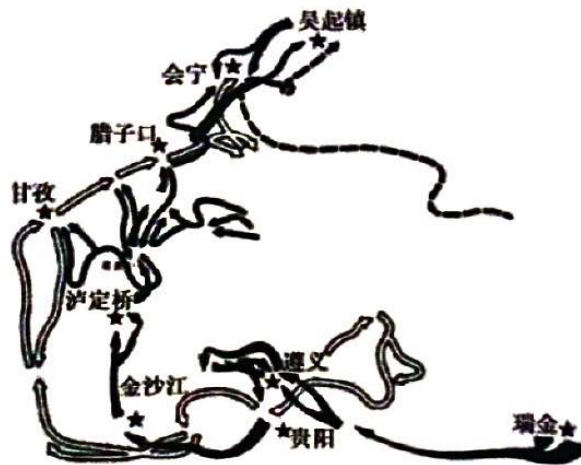
- A. 创办京师大学堂
- B. 创办汉阳铁厂
- C. 创办福新面粉厂
- D. 创办大生纱厂

11. 下列是对某一历史事件的多重认识维度。它评价的是

维度1	它是中国人民为拯救民族危亡、捍卫民族尊严的伟大社会革命运动
维度2	它为中国共产党的成立做了思想上干部上的准备
维度3	它在近代中华民族追求民族独立和发展进步的历程中具有里程碑意义

- A. 五四运动
- B. 维新变法
- C. 新文化运动
- D. 中国共产党诞生

12. 下图是红军长征行军路线示意图。这次行军之后，中国共产党的战略总后方和指挥中枢发生的变化是



- A. 从上海转到嘉兴
- B. 从延安转到西柏坡
- C. 从西柏坡转到北平
- D. 从瑞金转到延安

13. 中国共产党不仅是合作共赢的倡导者，更是积极实践者。属于第二次国共合作成果的是

- A. 北伐的胜利进军
- B. 红军长征的胜利
- C. 西安事变的和平解决
- D. 抗日战争的胜利



14. 右图是小明同学复习时整理的资料。他的复习主题是

- A. 民族团结
- B. 民主政治建设
- C. 国防建设
- D. 祖国统一

主题: _____

- ◆ 人民代表大会制度
- ◆ 民族区域自治制度
- ◆ 中国共产党领导的多党合作和政治协商制度

15. 他被誉为“党员领导干部的楷模”，他自觉以党和人民的需要为己任，两次进藏工作，在雪域高原奋斗十个春秋。材料中的“他”是

- A. 孔繁森
- B. 王进喜
- C. 雷锋
- D. 焦裕禄

16. 《中华人民共和国外交档案选编》案卷编号为 206-Y0002 的档案，是周恩来发表的一个声明：“这个会议将要讨论和平解决朝鲜问题和恢复印度支那和平问题……”。作为档案材料，其价值在于

- A. 实证亚非会议在万隆圆满结束
- B. 是确证历史的第一手资料
- C. 佐证和平共处五项原则的提出
- D. 是带有主观性的影像史料

17. 20 世纪 80 年代初，我国农村盛传一些民谣：“全家一起干，不到天黑不吃饭”、“农业实行大包干，粮食年年都翻番。”这些民谣产生的时代背景是

- A. 三大改造的完成
- B. 家庭联产承包责任制的实行
- C. 八字方针的提出
- D. 社会主义市场经济体制的确立

18. 1978 年关于真理标准问题的大讨论与 1992 年邓小平“南方谈话”的共同点是

- A. 促进思想解放
- B. 突出了市场经济
- C. 平反冤假错案
- D. 冲破“个人崇拜”

19. 奥林匹克运动因举办地在奥林匹亚而得名。该项运动发源于

- A. 古代罗马
- B. 古代希腊
- C. 古代巴比伦
- D. 古代印度

20. 1453 年，拜占庭帝国灭亡后，大批学者来到意大利，带来大量希腊古籍，并在各地教授希腊语，传播古希腊文化。这一现象

- A. 促进了文艺复兴的发展
- B. 推动了西欧社会经济的变化
- C. 促进世界开始连为一个整体
- D. 促进了租地农场的出现



21. 下图是《权利法案》和《人权宣言》的部分条文。据此判断，二者都

凡未经议会同意，以国王权威停止法律，为非法权力。 ——《权利法案》	法律是公共意志的表现，在法律面前，所有公民都是平等的。 ——《人权宣言》
--------------------------------------	---

- A. 主张限制王权
B. 强调人人平等
C. 肯定法律的地位
D. 主张议会至上

22. 据统计，英国的煤炭产量由 1770 年的 600 万吨增加到 1850 年的 4950 万吨，这是由于

- A. 蒸汽机的广泛使用
B. 石油化工业的发展
C. 内燃机的普遍使用
D. 通讯工具不断革新

23. 有学者认为“在 19 世纪的第一个四分之一时间里，玻利瓦尔就是美洲。”该学者观点的依据是，玻利瓦尔

- A. 领导了拉丁美洲独立运动
B. 颁布了《解放黑人奴隶宣言》
C. 发起了非暴力不合作运动
D. 收回了巴拿马运河的主权

24. 1944 年 6 月 5 日，艾森豪威尔将军的一位海军副官海瑞·巴彻上校记录了一些有关“天气预测”的幕后讨论。经过一阵热烈争论后，艾森豪威尔终于说：“好吧！我们会采取行动。”该“行动”的作用是

- A. 使二战达到最大规模
B. 成为二战的转折点
C. 开辟了欧洲第二战场
D. 标志欧洲战事结束

25. 使用大规模在线数据库的电子邮件系统、互联网大大增强了公司进行国际化经营的能力。现代全球生产和物流运作在很大程度上依赖全球定位系统。此段文字旨在论证推动经济全球化的因素是

- A. 多极化趋势加强
B. 跨国公司的发展
C. 信息技术的发展
D. 交通运输业的发展



第II卷 非选择题（共50分）

注意事项：

1. 用黑色字迹的签字笔将答案写在“答题卡”上。
2. 本卷共3题，共50分。

26. (16分) 阅读材料，回答问题。

材料一

表1 中国古代（西汉—清）人口分布变化

时间断面	西汉 (2年)	西晋 (280年)	唐代 (742年)	北宋 (1102年)	南宋 (1208年)	明代 (1460年)	清代 (1820年)
南方地区 人口占比	24.04%	48.11%	44.24%	63.42%	53.98%	58.33%	65.97%

（注：“南方地区”：是指淮河——秦岭——西藏自治区北界一线南侧地区。）

——摘编自龚胜生等《两千年来中国经济重心变迁的量化分析》

(1) 根据材料一，指出中国古代人口分布变化的总趋势。哪个朝代南方人口占比最多？（4分）

材料二 东汉、魏、晋时期，我国北方的游牧民族不断内迁。西晋时，山西、陕西内迁的各族人口，已经占当地人口总数的一半……西晋末年以来，大批北方人民为躲避战乱南下。到东晋后期，长江中下游地区布满了南迁的流民……北方人的南迁，给江南地区输送了大量的劳动力，带来了中原先进的生产工具和技术，从而使江南地区得到开发，经济迅速发展。

——摘编自统编版《中国历史》七年级上册

(2) 根据材料二，归纳魏晋时期人口迁移的空间特点。从经济格局变化角度分析人口迁徙的作用。（6分）

(3) 结合所学，举例说明清朝前期哪些措施促进了南方人口的迅速增长（请从农业政策、兴修水利、农作物种植等角度回答）？（6分）



27. (18分) 举行节庆纪念等活动, 是进行爱国主义教育的重要途径。阅读材料, 回答问题。

材料一 7月1日是中国共产党建党纪念日。一大的真正召开时间确定为1921年7月23日。当时, 历史研究人员通过一大代表及家属的回忆录初步确定会议召开时间为7月下旬, 又从共产国际在苏联关于一大的档案中查阅一大代表陈潭秋回忆及共产国际代表的报告, 明确记载一大会议召开时间是7月23日。研究人员发现在上海开会的最后一天, 一大代表陈公博下榻的旅馆曾发生命案, 经查阅《申报》等报纸认定此命案发生时间为7月31日凌晨, 而且当事人一直确认会议在上海开了八天后转移到嘉兴南湖游船上。综合以上信息, 研究人员最后认定会议日期为1921年7月23日。

——摘编自徐燕《党的生日是如何查证的》

(1) 根据材料一, 列举历史研究人员认定中国共产党建党日的过程使用了哪些资料? 中国共产党的成立使中国革命的面貌发生了怎样的变化? (6分)

材料二 卅万亡灵, 饮恨江城……兄弟同心, 共御外侮。捐躯洒血, 浩气干云。

尽扫狼烟, 重振乾坤……国行公祭, 法立典章。铸兹宝鼎, 祀我国殇。

——新华网南京12月13日电 南京大屠杀死难者国家公祭鼎铭文(节选)

(2) 2014年2月27日, 十二届全国人大常委会第七次会议经表决通过将12月13日确定为南京大屠杀死难者国家公祭日。通过立法形式确立公祭日, 使中华民族纪念历史的行为上升到国家和法律层面。材料二中“兄弟同心, 共御外侮”是指什么? 据此及所学分析抗战精神的内涵如何? (6分)

材料三 1949年12月2日, 中央人民政府委员会第四次会议通过的决议指出: “中央人民政府委员会宣告: 自1950年起, 即以每年的10月1日, 即中华人民共和国宣告成立的伟大日子, 为中华人民共和国国庆日。 ——中国共产党新闻网

(3) 结合所学指出“国庆日”的来历及伟大意义。通过以上学习, 你有何认识? (6分)



28. (16分) 下面是某同学编写的英美关系大事记。阅读材料, 回答问题。

表2 英美关系大事记(部分)

阶段	时间	事件
第一阶段	1775年	英军与莱克星顿武装村民发生交火
	1781年	约克镇之战, 英军向美军投降, 但英国拒绝承认美国独立
	1783年	英国被迫承认美国独立
	1862年	英国干涉美国内战
第二阶段	1917年	美国加入协约国(英法俄)参加第一次世界大战
	1919年	巴黎和会美国外交失败后, 不批准《凡尔赛和约》
	1922年	华盛顿会议美国取得了与英国同等的海上地位
第三阶段	1941年	珍珠港事件后美英对日宣战
	1942年	美英苏中等国代表在华盛顿签署《联合国家宣言》
	1944年	美英盟军成功登陆诺曼底
第四阶段	1947年	美国提出马歇尔计划, 对英法等西欧国家进行经济援助
	1949年	成立以美国为首的“北约”

——整理自统编教科书《世界历史》九年级上下册

- (1) 归纳第一阶段英美关系的特点。根据所学分析其原因。(4分)
- 2) 从第一到第二阶段, 英美关系发生了怎样的变化? 结合所学指出美国不批准《凡尔赛和约》的原因是什么? 这一时期形成了怎样的国际关系格局?(6分)
- 3) 简要说明第三阶段英美关系变化的历史背景。第四阶段英国国际地位发生了怎样变化? 这一时期国际关系的主导国是哪两个国家?(6分)

