

2024年河东区初中毕业生学业考试第二次模拟测试

道德与法治试卷

本试卷分为第Ⅰ卷（选择题）和第Ⅱ卷（非选择题）两部分。第Ⅰ卷为第1页至第6页，第Ⅱ卷为第6页至第8页。试卷满分100分。考试时间60分钟。

答卷前，请你务必将自己的姓名、考生号、考点校、考场号、座位号填写在“答题卡”上，并在规定位置粘贴考试用条形码。答题时，务必将答案涂写在“答题卡”上，答案答在试卷上无效。考试结束后，将本试卷和“答题卡”一并交回。

祝你考试顺利！

第Ⅰ卷

注意事项：

1. 每题选出答案后，用**2B**铅笔把“答题卡”上对应题目的答案标号的信息点涂黑。如需改动，用橡皮擦干净后，再选涂其他答案标号的信息点。

2. 本卷共24题，每题2分，共48分。每题给出的四个选项中，只有一项最符合题意。

1. 钱学森说：“6年的师大附中学习生活对我的教育很深，对我的一生，对我的知识和人生观起了很大的作用。”这足见

- A. 编织人生梦想是青少年时期的重要生命主题
- B. 中学时代对我们的一生具有独特价值和意义
- C. 中学教师是我们学习的指导者和成长的引领人
- D. 学习点亮生命，奠基幸福生活，推动人类进步

2. 小辉为自己的音乐天赋而骄傲，但从来不敢在多人面前表演，为此，他报名参加了音乐志愿者社团，去敬老院、去社区……用自己的音乐带给他人美好。现在，小辉对自己充满了信心，积极参加学校艺术节，音乐水平也不断提升。小辉的成长历程是

- A. 贵在自知——以他人为镜学习提升——依托社团平台锤炼能力
- B. 欣赏接纳自己的优点——善于学习与合作——服务和奉献社会
- C. 通过他人评价认识自己——虚心接受其全部意见——扬长避短
- D. 正确认识自己——接纳和欣赏自己——激发潜能做更好的自己

3. 网上交友，要避免微信变成“危信”。正确的做法是

- ①增强自我保护意识和能力
- ②对于网上交友要慎重选择
- ③提高自己辨别是非的能力
- ④远离网络，健康文明生活

- A. ①②③ B. ①②④ C. ①③④ D. ②③④

4. 一位生命哲学家说：“善是保存和促进生命，恶是阻碍和毁灭生命。”下列四组图片体现这一观点的是



姓名 _____ 班级 _____ 学校 _____

密 封 线 内 不 要 答 题



注意保护视力

A



跟妈妈学做饭

B



蹲下去

C



提高自理能力

D

5. 90后萧凯恩出生三个月就因眼癌摘除了眼球，但她不放弃，勇攀登，坚信“天生我材必有用！”最终成为首位考入香港中文大学音乐系和英国皇家音乐学院的视障人士，并赢得超70个音乐比赛奖项。萧凯恩的成长历程启示我们

- ①应该正确对待挫折和逆境
- ②只要有目标就能战胜挫折
- ③生命都蕴含一定的承受力
- ④需要发掘自己的生命力量

A. ①②③ B. ①②④ C. ①③④ D. ②③④

6. 2023年度全国“新时代好少年”李云峥通过日常观察、探究，发明了“无人机旋翼动平衡测试器”；为减少城市内涝灾害的危害，他反复实验，发明了“城市内涝预警装置”，获得国家发明专利公开。李云峥的行为体现了创造源于

A. 独立思考 B. 批判精神 C. 敢于冒险 D. 社会实践

7. 小梁父母离异，与爷爷奶奶一起生活，性格内向，自尊心强，生活压力大，很少与同学交流。班委会商量如何帮助他。你赞同的是

- A. 为小梁介绍一份兼职，生活上学两不误
- B. 安排小梁有偿为同学写作业，各取所需
- C. 小梁生病了，同学们轮流为他复习功课
- D. 不管小梁是否愿意，班委轮流找他谈心

8. 2024年1月1日起，我国施行《未成年人网络保护条例》。《条例》一方面注重引导未成年人享有发展权益，另外一方面注重强化未成年人的网络安全。这体现了法律

- A. 是国家治理现代化的重要标志
- B. 为未成年人提供良好的生活秩序
- C. 对未成年人的规范和保护作用
- D. 是人类社会进入现代文明的标志

9. 一支由“居委会+中学生志愿者”组成的反电信网络诈骗宣传小组走进社区，向居民宣传反诈骗知识，推广安装“国家反诈中心”APP，提高居民的防诈骗能力，减少不必要的财产损失。中学生志愿者的行为

- A. 有利于增强自我防范，促进网络健康化
- B. 能够影响他人，共建文明有礼社会风尚
- C. 能够推广安全教育，杜绝居民遭遇诈骗
- D. 有助于服务奉献社会，养成亲社会行为



10. 微信是生活中不可缺少的社交工具，在朋友圈中帮人投票、转发、点赞等成为我们每天必做的“工作”。对此，学生展开讨论。你认为正确的是

小明：通过拼人脉、拼资源获奖，这种竞争很公平。

小萍：网络投票、信息转发惹人厌烦，我们要坚决抵制。

小奇：网络点赞、投票跨越时空，有时表达和加深了朋友、亲人间感情。

小芬：网络具有虚拟性、间接性和隐蔽性，在投票、转发信息时要谨慎。

A. 小奇和小芬 B. 小明和小萍 C. 小萍和小奇 D. 小明和小芬

11. 表中信息表明，同学之间需要建立互敬互爱的融洽关系。你的建议是

某校同学交往情况调查统计表

调查问题	所占比重
喜欢拿别人开玩笑	11%
在公众场合随便喊同学的绰号	14%
时常做出一些言而无信的事	10%
关心并经常谈论同学的“小秘密”	13%
贸然打断其他同学融洽地交谈	10%

①尊重同学隐私是尊重同学**最重要表现**

②要学会换位思考，**己所不欲，勿施于人**

③在日常交往中要尊重同学的人格和权利

④要积极关注他人，不要重视自己的感受

A. ①②

B. ①④

C. ②③

D. ③④

12. 中国好人陈廷海说：“只有还清债务，我才能挺直腰板做人。”全国道德模范吴恒忠说：“请你们放心，借了钱就一定要还，儿子没了，我也绝不赖帐。”从个人的角度看，这些话体现的诚信价值是

A. 一个企业的无形资产

B. 促进社会文明、国家兴旺

C. 一个人安身立命之本

D. 衡量个人事业成败的标准

13. 从不良行为到严重不良行为，从一般违法行为到犯罪行为，往往仅是一步之遥，防微杜渐是预防违法犯罪的重要途径。下列符合这一观点的是

A. 小灰：虽然我小错不断，但我大错不犯，犯罪与我无关

B. 小黑：我们集体闯红灯，“法不责众”，警察也没办法

C. 小蓝：我无心之失，用玩具手枪把好友家花盆打成蜂巢

D. 小白：勿以恶小而为之，拒绝一切不良嗜好，遵纪守法




14. 核潜艇之父黄旭华说：“党如果要求我把血一次流光，没有异议，但如果要求我血一滴一滴慢慢流，一直到流光为止，我黄旭华能够做到。”“中国龙芯之母”黄令仪说：“我这辈子最大的心愿就是匍匐在地，擦干祖国身上的耻辱。”从他们的语言中可以感受到

- ①尊重他人，以礼待人，诚实做人
- ②心怀爱国情，坚持国家利益至上
- ③以国家利益为重，投身国家建设
- ④顾全大局，把国家利益放在第一位

A. ①②③ B. ①②④ C. ①③④ D. ②③④

15. 仔细解读右图，其最终的意义在于

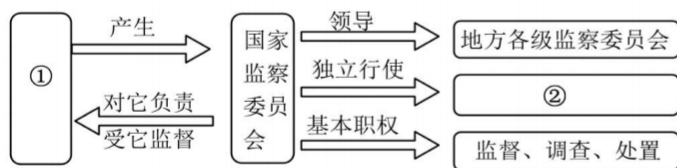


- A. 一切违反宪法行为，必须予以追究
- B. 规范国家权力运行以保障公民权利
- C. 宪法以法律形式确认党的领导地位
- D. 国家权力在法律限定的范围内行使

16. 司机甲：“我追尾了您的车，您看怎么赔偿？”司机乙：“损伤不大！我就不用您赔偿了。下次开车要注意点哈。”正确体现材料寓意的是

- A. 调节利于当事人相互谅解，解决纠纷
- B. 和解是超越法律规定的纠纷解决方式
- C. 和解是当事人之间自行解决纠纷的方式
- D. 和解是解决纠纷、维护权益的最有效方式

17. 以下思维导图中①和②依次填入的内容是



- A. 全国人民代表大会 监察权 B. 中央人民政府 行政权
- C. 最高人民检察院 检察权 D. 最高人民法院 司法权

18. 某班道德与法治课上，同学们围绕“法治精神”展开讨论，观点正确的是

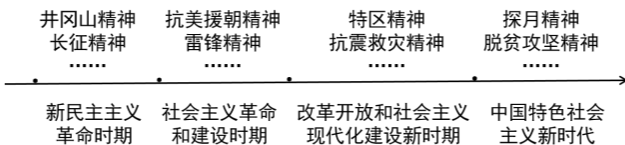
- A. 仲裁是捍卫社会公平正义的最后一道防线
- B. 法治规范自由又保障自由，我们要追求不受限制的自由
- C. 乘坐公共交通工具时，老人优先是一种特权，不符合平等的原则
- D. 盲文试卷的提供，体现了社会为每个人提供同等的发展机会和条件



19. 《中华人民共和国爱国主义教育法》是我国首次对爱国主义教育进行专门性、系统性的立法规定，谱写了新时代爱国主义教育法治化建设的新篇章。体现了

- ①依法治国是党领导人民治理国家的基本方略
 - ②有了法律制度就有了法治，符合公平正义要求
 - ③走法治道路是实现中华民族伟大复兴的必然选择
 - ④法治保障人们在社会各领域依法享有广泛的权利
- A. ①②③ B. ①②④ C. ①③④ D. ②③④

20. 一百多年来，中国共产党弘扬伟大建党精神，在长期奋斗中构建起中国共产党人的精神谱系。这些精神都是中华民族精神的具体体现。由此可以看出



- ①民族精神的核心是自强不息
 - ②民族精神具有与时俱进的品格
 - ③传承和弘扬民族精神要从小事做起
 - ④民族精神随着时代的进步不断丰富和发展
- A. ①② B. ①④ C. ②③ D. ②④

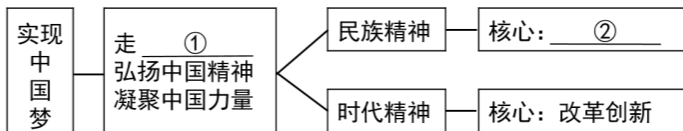
21. 2024年5月1日起实施的《节约用水条例》是我国首部节约用水行政法规。此《条例》的实施可以

- ①促进全社会节约用水，助推生态文明建设
 - ②建立健全了节水制度政策体系，强化管理
 - ③从根本上保证我国不会再出现水资源短缺问题
 - ④以法治的方式和途径实现水资源节约集约利用
- A. ①②③ B. ①②④ C. ①③④ D. ②③④

22. 《中华人民共和国澳门特别行政区基本法》颁布30周年来，澳门长期繁荣稳定，取得举世公认的成功。保持澳门长期繁荣稳定的最佳制度安排是

- A. “一国两制” B. 民族团结 C. 民族平等 D. 民族和谐

23. 下列思维导图中的①和②依次应填的内容是



- A. 强国道路 爱国主义
- B. 中国道路 爱国主义
- C. 富裕之路 团结统一
- D. 富民之路 团结统一



24. 材料体现了我国应对全球性问题作出了重大贡献，它们是

材料一	中国本着相互尊重的国际交往礼仪，公平正义的国际交往要旨，合作共赢的国际交往愿景，与世界各国共同推进人类文明进步，走出了一条结伴而不结盟、对话而不对抗的国与国交往新路。
材料二	面对全球性挑战，我国坚持对话协商，建设持久和平的世界；坚持共建共享，建设普遍安全的世界；坚持合作共赢，建设共同繁荣的世界；坚持交流互鉴，建设开放包容的世界；坚持绿色低碳，建设清洁美丽的世界。
材料三	2023年3月我国首次提出全球文明倡议，深刻指出“和平、发展、公平、正义、民主、自由是各国人民的共同追求”。

- ①弘扬了全人类共同价值 ②推动了建设新型国际关系
③推动了构建人类命运共同体 ④促进了国家间的合作和竞争
- A. ①②③ B. ①②④ C. ①③④ D. ②③④

第 II 卷

注意事项：

1. 用黑色字迹的签字笔将答案写在“答题卡”上。
2. 本卷共 8 题，共 52 分。根据各题要求，回答问题。

25. (6 分)



结合图中现象，运用所学知识谈谈你的看法。(6分)

26. (6 分)

2023年7月30日，K396次列车被暴雨滞留在北京市门头沟区落坡岭站，当地党支部书记、居委会主任孟二梅在断水、断电、断网的情况下，带领社区300名老弱病残居民，想尽办法让近千名被困乘客在暴雨中免于冻饿。她的一句“有我一口吃的，就不会让大家饿肚子”感动了无数人，让全国记住了一个地名和一群人，也让我们记住了孟二梅。

结合所学知识，谈谈孟二梅何以让无数人感动？(6分)(至少答出三点)



27. (6分)

十年来,京津冀三省市有序推进“一张图”规划、“一盘棋”建设、“一体化”发展,取得突破性进展。我市合理流动和配置资源,发挥好滨海新区战略合作功能区作用,与雄安新区、北京城市副中心实现错位协同发展;不断增强轨道上、航道上的京津冀服务效能,助推“轨道上的京津冀”加速形成,实现了主要城市之间1小时通达;取消异地就医备案,实现跨省异地就医直接结算;开展跨区域合作办学,成立跨区域教育发展联盟……

结合所学,分析上述材料体现了什么样的发展?又体现了什么样的新发展理念?

【探·圆梦】

从蓝图绘梦到奋斗圆梦,中国载人航天事业行稳致远30年,完成了“三步走”战略任务,突破掌握了一系列关键核心技术,建成了自主建造、独立运行的“天宫”空间站,在建设航天强国、攀登科技高峰的征程上增添了又一座彪炳史册的“里程碑”,在浩瀚宇宙书写了用航天梦托举中国梦的壮丽篇章。

28. (8分)

中国载人航天事业行稳致远得益于哪些因素?(8分)(至少写出四点)

【感·追梦】

钱学森曾经说过:“航天是系统工程,不能靠我一个人,要靠一大堆人。”中国载人航天事业30年来的“加速进步”,背后是钱老口中“一大堆人”付出的扎实努力,可以说载人航天每一次重大突破,都是一场“大兵团作战”。

29. (8分)

运用所学知识,谈谈对“载人航天每一次重大突破,都是一场‘大兵团作战’”的认识。



“改革开放这场中国的第二次革命，不仅深刻改变了中国，也深刻影响了世界。”改革开放是中国与世界的双向奔赴、是共同发展进步的伟大历程。根据材料，完成任务。

【改革开放·中国发展】

经济发展 从1978年到2023年，国内生产总值（GDP）从3645亿元增长到1260582亿元，成为世界第二大经济体；货物进出口总额从207亿美元增加到突破40万亿元，连续多年居世界首位。	人民生活 全国居民人均年可支配收入从1978年的171元增加到2023年的32189元；基本养老保险覆盖10.5亿人；近1亿农村贫困人口实现脱贫，历史性地解决了绝对贫困问题。	科技创新 科技自立自强加快推进，一些关键核心技术实现突破，中国在人工智能、5G技术、量子通信等领域取得了世界领先地位，战略性新兴产业发展壮大，成功进入创新型国家行列。	国际地位 中国成为联合国安理会常任理事国、世界贸易组织成员；积极参与全球治理，提出中国智慧、中国方案，已成为世界经济增长的主要稳定器和动力源，成为影响世界的重要力量。
---	---	---	---

30. (8分)

你从上述成就中体悟到哪些道理？(8分)

【改革开放·世界机遇】

在危局中展现担当	应对亚洲和国际金融危机，我国通过外汇支援、出台十大政策措施，促进经济增长，成为世界应对危机的一个战略转折点。应对世纪疫情，同世界各国携手合作、共克时艰，向153个国家、15个国际组织提供大批抗疫物资援助，向34个国家派出医疗专家组，提供超23亿剂疫苗，为全球抗疫贡献了智慧和力量。
在国中持续发力	我国2023年对世界经济增长贡献率保持在30%左右，与“一带一路”共建国家进出口总额累计19.1万亿美元，成为世界增长的重要引擎。主动进行经济转型，打造绿色低碳新增长点，推动全球市场需求的增长。营造优质的贸易环境，成为140多个国家和地区不可或缺的贸易伙伴。
在乱局中举旗定向	我国把促进世界和平与发展视为自己的神圣职责，是目前全球唯一将“坚持和平发展道路”载入宪法的国家，派遣维和人员最多的安理会常任理事国。高举构建人类命运共同体旗帜，推动沙特和伊朗实现复交、斡旋缅甸停火协议在昆明达成、面对乌克兰危机延宕，秉持公正、劝和促谈，为全球发展营造和平环境。

31. (6分)

你从上述材料中感受到中国与世界是怎样的关系？描述中国在世界上的形象。

【改革开放·青春担当】

每一个中华儿女都为伟大祖国取得的辉煌成就感到由衷的骄傲和自豪，同时也应该肩负起实现中华民族伟大复兴中国梦的光荣使命。

32. (4分)

少年兴则国家兴，少年强则国家强。为了祖国更加美好的明天，新时代的中国青少年应怎样担当？(至少答出两点)

密封线内不要答题

