

河北区 2023—2024 学年度九年级总复习质量检测 (二)

历史

本试卷分为第 I 卷 (选择题) 和第 II 卷 (非选择题) 两部分。第 I 卷为第 1 页至第 5 页, 第 II 卷为第 6 页至第 8 页。考试实行开卷; 试卷满分 100 分; 考试时间 60 分钟。

答题时, 务必将答案涂写在“答题纸”上, 答案答在试卷上无效。

第 I 卷

本卷共 25 题, 每题 2 分, 共 50 分。在每题给出的四个选项中, 只有一项最符合题意。

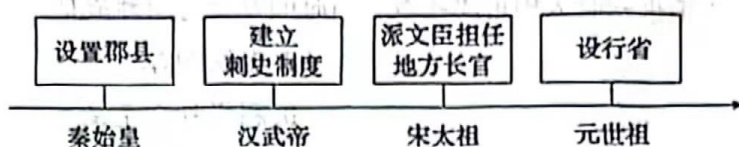
1. 考古学家在某一早期人类遗址中发现了一些古人类头骨化石, 头骨具有前额低平, 眉骨粗大, 颧骨突出等特征; 遗址中还发现有灰烬、烧石和烧骨等用火痕迹。该早期人类是
A. 元谋人 B. 北京人 C. 山顶洞人 D. 半坡人
2. “为政以德, 譬如北辰, 居其所而众星共之”“己所不欲, 勿施于人”“己欲立而立人, 己欲达而达人”, 这些思想主张属于
A. 道家学派 B. 法家学派
C. 儒家学派 D. 墨家学派
3. 阅读材料, 提取信息并加以解释, 是学习历史的重要环节之一。下面是一份学生的阅读笔记, 从中可以看出

在位皇帝	内容摘抄
汉高祖	民失作业, 而大饥馑
汉文帝	治霸陵皆以瓦器, 不得以金银铜锡为饰
汉武帝	太仓之粟陈陈相因, 充溢露积于外, 至腐败不可食

- A. 西汉从残破到强盛的过程 B. 中央对地方的控制大大加强
C. 汉代“丝绸之路”的开通 D. 汉代科学技术达到较高水平
4. 西汉司马迁笔下的江南“地广人希(稀)……无积聚而多贫”; 到东晋南朝之际, 江南“地分野丰, 民勤本业, 一岁或稔, 则数郡忘饥”。下列内容中属于推动这一变化的因素的是
A. 各民族的交融 B. 北方人的南迁
C. 大运河的修建 D. 市民阶层壮大



5. 以下史实反映的主题是



- A. 经略边疆方式多样
B. 监察制度不断改进
C. 地方治理不断完善
D. 中枢机关权力削弱
6. 从秦朝的“半两钱”到汉朝的“五铢钱”，再到宋朝的“交子”，货币发生了由笨重到轻便的变化。这一变化的主要原因是
- A. 都市生活的繁华
B. 冶铸工艺的进步
C. 造纸技术的成熟
D. 商业贸易的发展
7. 有学者认为：“这种政策的实行，导致了中国一度处于世界先进行列的航海业日益落后于西方，阻碍了海外市场的开拓与资本的原始积累。”材料中的“这种政策”是
- A. 闭关锁国
B. 重农抑商
C. 殖民掠夺
D. 朝贡贸易
8. 下面文本框是八年级上册第一单元某课时的子目录，据此判断此课时的学习内容是

第一单元 中国开始沦为半殖民地半封建社会
第 X 课
英法发动侵华战争
火烧圆明园与《北京条约》的签订
沙俄侵占中国北方大片领土

- A. 鸦片战争
B. 第二次鸦片战争
C. 太平天国运动
D. 甲午中日战争
9. 近代中国人民为反抗列强侵略，争取民族独立，进行了英勇斗争和救亡图存的探索。下列材料与所关联的人物对应正确的是
- ①是使数十年后，中原几无可以御敌之兵，且无可以充饷之银
②我之所以穿朝服，就是想让士卒们知道我还在，这样他们就会同敌人血战到底
③法者天下之公器也，变者天下之公理也
④是中国自由神，三民五权，推翻历史数千年专制之局
- A. ①——左宝贵
B. ②——孙中山
C. ③——梁启超
D. ④——林则徐



10. 文化作品是时代的印记。1918年,《新青年》杂志发表了鲁迅的第一篇白话文小说《狂人日记》,无情批判吃人的封建礼教。当时的社会思想潮流是
- A. 自强、求富
B. 变法图存
C. 民主与科学
D. 科学社会主义
11. 近代中国的一些革命运动中,先进青年知识分子起了先锋作用。某次运动发布的《北京学界全体宣言》写道:“务望全国工商各界,一律起来设法开国民大会,外争主权、内除国贼……国亡了,同胞起来呀!”这次运动是
- A. 五四运动
B. 新文化运动
C. 西安事变
D. 一二·九运动
12. 中国国民党第一次全国代表大会的召开,标志着国共两党合作的正式建立,轰轰烈烈的国民革命开始了。与此相关的是
- A. 护国运动
B. 五四运动
C. 南昌起义
D. 北伐战争
13. 下表中的史实反映了

<p>张自忠将军和八路军副参谋长左权英勇抗战,血洒疆场 海外华侨和港澳同胞,捐款捐物,支援前线士兵作战 工人不分昼夜,加班生产,支援前线 马本斋组织回民义勇队,抗击日军入侵</p>
--

- A. 敌后战场抗战
B. 全民族抗战
C. 正面战场抗战
D. 抗战取得胜利
14. 解放战争馆内陈列分为“争取和平民主准备应付内战”“实行战略防御”“转入战略进攻”“举行战略决战”“实施战略追击”5个单元。平津战役属于的单元是
- A. 实行战略防御
B. 转入战略进攻
C. 举行战略决战
D. 实施战略追击
15. 以下历史事件的共同作用是

时间	1950年	1951年	1953年
事件	中央人民政府颁布《中华人民共和国土地改革法》	中国人民解放军进驻拉萨	抗美援朝战争取得胜利;中国提出和平共处五项原则

- A. 巩固了新生的人民政权
B. 提高了中国的国际地位
C. 推进了祖国的统一大业
D. 打开了全新的外交局面



16. 右侧照片是 1956 年天津盛锡福帽厂挂上公私合营后的新厂牌时职工们和经理集聚在门前互相祝贺的场景。这一场景反映了我国 20 世纪 50 年代经济领域的重大变革。这一变革的作用是



- A. 保卫了广大中国人民的和平生活
B. 确立了社会主义市场经济体制
C. 实现了社会主义工业化
D. 建立了社会主义公有制
17. 以下是《人民日报》的部分社论标题，将社论反映的史实按时序排列，正确的是
①《为实现全中国土地改革而斗争》 ②《旧中国灭亡了，中华人民共和国诞生了》
③《迎香港回归创美好未来》 ④《把全党工作的重点转移到现代化建设上来》
A. ①②③④ B. ①②④③
C. ②①③④ D. ②①④③
18. 1955 年在印度尼西亚召开的亚非会议，初步塑造了新中国的国际形象：新中国是一个以和平发展为主要价值取向的国家；新中国是一个主张求同存异的国家；新中国是一个为发展中国家主持正义的国家。这是因为中国
A. 抗美援朝的胜利提高了国际地位
B. 参加并促进万隆会议圆满成功
C. 社会主义制度基本确立起来
D. 恢复了在联合国的合法席位
19. 随着帝国的扩张和商业的发展，社会上各种新的矛盾日益凸显，罗马缺乏一个适用于外来人口以及外来人口和本地人口关系的法律。针对这一情况，罗马帝国
A. 颁布了成文法 B. 建立了元首制
C. 编制了儒略历 D. 推行了万民法
20. 随着中世纪西欧经济的发展，教育与学术出现了新气象，大学纷纷兴起。当时，大学的基础课程包括文法、修辞、逻辑、算术、几何、天文和音乐。学生学完基础课程之后学习专业课程，有法医、医学和神学。结合当时大学课程设置情况，可以了解
①大学开设了基础课程和专业课程 ②大学课程适应经济和社会发展要求
③大学的课程设置仍受基督教会的影响 ④国王控制了大学课程的设置
A. ①②③ B. ①②④
C. ①③④ D. ②③④



21. 一部著作中写道：如果说大革命是一场使法国社会发生翻天覆地变化的政治革命的话，那么在此前发生的一场运动则是触及法国人灵魂深处的思想革命。这里所说的“此前发生的一场运动”指的是

- A. 文艺复兴
- B. 光荣革命
- C. 启蒙运动
- D. 工业革命

22. 19 世纪上半期，英国纺织业利润翻了一番，最富有阶层（占人口总数 1.2%）占有的国民收入从 25% 上升到 35%，而工人工资却几乎没有变化。这导致

- A. 工业革命进程加快
- B. 阶级分化加剧
- C. 城市环境遭到破坏
- D. 纺织技术革新

23. 1921 年列宁强调，“目前俄共在经济方面的基本任务，就是领导苏维埃政权的经济工作：必须从市场的存在出发并考虑市场的规律。掌握市场，通过有系统的、深思熟虑的、建立在对市场过程的精确估计之上的经济措施，来调节市场和货币流通。”

下列内容与此相符合的是

- A. 支持集体农庄的建设
- B. 实行战时共产主义政策
- C. 加速苏联工业化建设
- D. 允许私人经营中小企业

24. 下表是 1943 年中、美、英三国所发表的一部重要文献的部分内容。这部文献是

日本所窃取的中国领土，例如东北地区、台湾及其附属岛屿、澎湖群岛等，归还中国。
--

- A. 《开罗宣言》
- B. 《联合国家宣言》
- C. 《波茨坦公告》
- D. 《北大西洋公约》

25. 观察下表，可以看出和平共处五项原则的提出

联合国的宗旨	中国的和平共处五项原则
维护世界和平与安全，发展国际间的友好关系，加强国际合作	互相尊重主权和领土完整，互不侵犯，互不干涉内政，平等互利，和平共处

- A. 意味着中国恢复在联合国的合法席位
- B. 解决了人口、资源等人类面临的问题
- C. 标志着中国特色大国外交的全面推进
- D. 体现了联合国倡导的和平、合作主张





第Ⅱ卷

本卷共3题，共50分。

26. (16分) 阅读材料，回答问题。

材料一

 <p>①河姆渡遗址出土的稻谷</p>	 <p>②《齐民要术》书影</p>	 <p>③含嘉仓示意图</p>
<p>距今约 7000 年的河姆渡遗址中，发现了大量人工栽培水稻的遗迹，这表明长江中下游是亚洲稻的起源地之一。</p>	<p>《齐民要术·种谷》写道：“顺天时，量地利，则用力少而成功多。任情返道，劳而无获。”</p>	<p>隋朝在洛阳修建的最大的国家粮库。经考古发掘，遗址面积 40 多万平方米，有数百个粮窖。</p>

——摘编自义务教育教科书《中国历史》（七年级上、下册）

(1) 依据材料一，概括我国古代农业生产的特点。(4分)

材料二 唐朝的手工业发展到很高水平。纺织业品种繁多，尤以丝织工艺水平最高，其中蜀锦以色彩艳丽、纹饰精美冠于全国。……此外，陶瓷业、造船业、矿业、冶业、造纸业等都颇具规模。

——摘编自义务教育教科书《中国历史》（七年级下册）

(2) 依据所学，概括唐朝陶瓷业发展的表现并分析“唐朝手工业发展到很高水平”的原因。(6分)

材料三 东京州桥遗址位于河南开封。2022年，国家文物局“考古中国”平台发布州桥遗址重大考古成果。以下是依据考古成果整理的资料：

州桥和汴河河道遗址	大型石刻壁画	瓷器标本
<p>州桥是北宋东京中轴线御街与大运河汴河段交叉点上的标志性建筑。正如《东京梦华录》记载：“州桥正对大内御街……御街一直南去，过州桥，两边皆居民。街东车家炭、张家酒店，次则李家香铺……”</p>	<p>河道两岸发现的宋代大型石刻壁画，刻有海马、瑞兽、仙鹤、祥云等，与《东京梦华录》记载的“近桥两岸皆石壁，雕镌海马、水兽、飞云之状”相吻合</p>	<p>出土了 5.6 万多件瓷器标本，涵盖了宋代以后众多窑口。瓷器上有文字、纹饰，涉及绘画、建筑、科举、市井生活等方面</p>

(3) 依据材料三，概括宋代的社会发展状况。说出州桥遗址发现的史料价值。(6分)



27. (18分) 阅读材料, 回答问题。

材料一 1860年天津成为通商口岸……天津位于铁路沿线和江、海之滨, 成为港城一体化城市。……至20世纪初, 京汉、京张、津浦、京奉铁路相继建成, 以天津为中心的华北铁路网正式形成。

——杜希英《交通变革与天津城市近代化》

(1) 依据材料一及所学, 简述近代天津铁路交通兴起的主要原因。(6分)

材料二



(2) 依据所学写出材料二中图片的名称并列举这一时期在铁路建设方面的成就。(4分)

材料三 新中国成立前, 我国交通条件很落后。新中国成立后, 国家投入巨额资金改善交通条件, 并取得巨大成就。截至2010年底, 我国的铁路营业里程已居世界第二位。1997年以来全国铁路实现了几次大提速, 大大提高了运营效率。2008年后, 我国大力建设高速铁路, 铁路运输实现质的飞跃。至2021年底, 我国高铁营业里程达4万千米, 位居世界第一。

2011年6月30日, 京沪高铁正式开通运营。京沪高铁是当时世界上一次建成线路里程最长、技术标准最高的高速铁路……2018年10月23日, 港珠澳大桥正式开通。港珠澳大桥……是一项超大型跨海交通工程。

——义务教育教科书《中国历史》(八年级下册)



青藏铁路



行驶中的“复兴号”中国标准动车组



(3) 依据材料三，概括新中国成立后我国铁路交通巨大发展的表现。(4分)

(4) 综上，分析新中国铁路交通巨大发展的原因。(4分)

28. (16分) 阅读材料，回答问题。

材料一 16世纪60年代，西方殖民者在亚洲菲律宾建立了马尼拉据点，开启了马尼拉大帆船贸易。西欧商人或通过马尼拉直接进行美洲金银与东方产品的交换，或通过马尼拉运回中国的丝绸瓷器。美洲的主要农作物，如玉米、马铃薯、可可等，相继传入中国。中国的瓷器和丝织品，在墨西哥进口总额中最高时占到1/2以上，大量在墨西哥铸造的西班牙银元流入中国。

——韩琦《马尼拉大帆船贸易对明朝的影响》

(1) 依据材料一及所学，指出马尼拉大帆船贸易出现的背景，并概括贸易的影响。(6分)

材料二 19世纪末的经济发展，再加上海洋运输和铁路上的交通革命，培植出一种真正的世界经济。到1900年时，欧洲人从阿根廷和澳大利亚进口牛肉和羊毛，从巴西进口咖啡，从智利进口硝酸盐，从阿尔及利亚进口铁矿石，从爪哇进口蔗糖。欧洲资本同样也投向了海外，以建设铁路、矿山、电厂和银行。当然，国外市场也为欧洲剩余的制成品提供了市场。

——斯皮瓦格尔《西方文明简史》

(2) 依据材料二及所学，分析出现上述现象的原因。(4分)

材料三 全球化在推动全球经济社会发展的同时，也存在着较大的隐患。全球发展失衡加剧、贫富差距和分配不公增大、国家冲突风险上升、国家治理危机和风险全球化加重等负面影响也日益显现，加大了全球化停滞、向碎片化方向发展以及国家之间的矛盾与冲突等风险。

——孙澄玉、张晓兰《当前经济全球化面临的新形势与新问题》

(3) 依据材料三，概括经济全球化发展面临的隐患。依据所学说说中国为经济全球化的发展做出的贡献。(6分)

