

本试卷分为第I卷(选择题)和第II卷(非选择题)两部分。第I卷为第1页至第4页,第II卷为第5页至第8页。试卷满分100分。

答题时,务必将答案涂写在“答题卡”上,答案答在试卷上无效。

祝你考试顺利!

第I卷

注意事项:

1. 每题选出答案后,用2B铅笔把“答题卡”上对应题目的答案标号的信息点涂黑。如需改动,用橡皮擦干净后,再选涂其他答案标号的信息点。

2. 本卷共25题,每题2分,共50分。在每题给出的四个选项中,只有一项最符合题意。

1. 下列图片内容共同体现了



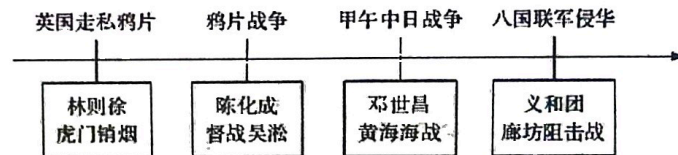
- 裴李岗文化遗址出土的石镰 东胡林遗址出土的炭化粟和黍 玉塘岩遗址出土的稻谷

- A. 使用打制石器 B. 使用磨制石器
C. 原始农业发展 D. 铁器时代到来
2. 以下材料都涉及武王伐纣的历史。其中史料价值最高的是
A. 周初青铜器铭文 B. 历史巨著《史记》
C. 长篇小说《封神演义》 D. 京剧《哪吒》
3. 关于东汉的史实,按时序排列正确的是
A. 军阀割据——光武中兴——外戚宦官交替专权——黄巾起义
B. 光武中兴——外戚宦官交替专权——黄巾起义——军阀割据
C. 光武中兴——外戚宦官交替专权——军阀割据——黄巾起义
D. 黄巾起义——光武中兴——军阀割据——外戚宦官交替专权
4. 下列历史现象中,与北魏孝文帝改革互为因果关系的是
A. 北方的分裂割据 B. 民族政权并立
C. 江南地区的开发 D. 北方民族大交融
5. 《旧唐书·李密传》对于某一时期的社会状况有如下描述:“父母不保其赤子,夫妻相弃于匡床,万户则城郭空虚,千里则烟火断灭。”这一社会状况出现的原因是
A. 隋炀帝的暴政 B. 唐末朝政腐败
C. 藩镇割据局面的出现 D. 五代十国政权更迭频繁

6. “杭城(杭州)大街,买卖昼夜不绝,夜交三四鼓,游人始稀;五鼓钟鸣,卖早市者又开店矣。”据此可知
A. 南宋临安是世界著名的大都市 B. 南宋时期经济重心完成南移
C. 宋代城市坊市界限被逐渐打破 D. 宋代商业活动突破时间限制
7. 下图中乾隆皇帝的谕令表明当时清政府

- ◆ 禁止外国商人在广州过冬
- ◆ 外商必须住在政府指定的“行商”商馆中,由“行商”负责“管束稽查”
- ◆ 不准外商向中国人借款或雇佣中国人


- A. 禁绝一切中外交流 B. 放弃闭关锁国政策
C. 严格限制对外贸易 D. 开始实行海禁政策
8. 通过梳理历史线索可以明确学习主题。对下图反映的学习主题概括最准确的是



- A. 中国开始沦为半殖民地半封建社会 B. 外国列强侵略与中国人民的抗争
C. 列强瓜分的狂潮与中国人民的反抗 D. 民族危机的加剧与近代化的探索
9. 有史学家提到:“李鸿章的物质改革已遭时人的反对,倘再进一步地改革政治态度,时人一定不容许他。甲午以后,康有为觉得时机到了。李鸿章所不敢提倡的政治改革,康有为要提倡。”材料中的“物质改革”“政治改革”分别是指
A. 洋务运动、戊戌变法 B. 戊戌变法、辛亥革命
C. 实业救国、公车上书 D. 洋务运动、辛亥革命
10. 右图漫画反映的历史事件
A. 废除了封建剥削的土地制度
B. 推翻了两千多年的封建统治
C. 结束了半殖民地半封建社会
D. 推翻了清王朝的反动统治
11. 瞿秋白评价五四运动时曾说:“帝国主义压迫的切骨的痛苦,触醒了空泛的民主主义的噩梦。”这里的“民主主义”是指
A. “实业救国”思想 B. 尊孔复古逆流
C. 彻底的反帝反封建 D. 资产阶级自由平等

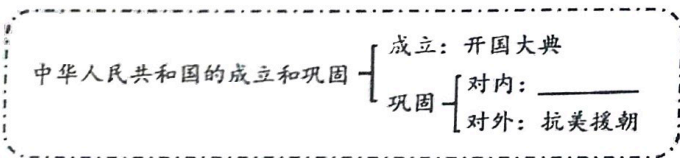


12. 与中共一大相比, 中共二大最重要的贡献是
 A. 确定党的中心工作是领导工人运动 B. 重申实现共产主义的奋斗目标
 C. 制定党的最低纲领 D. 决定同孙中山领导的国民党合作
13. 一个时代有一个时代的最强音。1924—1927年期间的时代最强音是
 A. 推翻帝制, 建立民国 B. 打倒列强, 驱除军阀
 C. 国共合作, 一致抗日 D. 打到南京, 解放全国
14. 周恩来说:“南昌起义失败了, 我有责任, 没有想到要和农民运动相结合, 建立农村根据地, 还是搞以城市为中心。当时也是没有经验……”周恩来的话说明南昌起义
 A. 带来的教训是城市暴动在中国不符合国情
 B. 打响了武装反抗国民党反动统治的第一枪
 C. 是党开创农村包围城市、武装夺取政权的革命道路的开始
 D. 是党的历史上生死攸关的转折点
15. 照片定格历史瞬间。以下四幅图片最能体现



抗战时期中共中央所在地——延安 八路军在平型关伏击日军 彭德怀在前线 中国共产党第七次全国代表大会会场

- A. 抗日战争的主要特点是全民族抗战
 B. 根据地军民展开人民游击战争
 C. 中国共产党在抗战中的中流砥柱作用
 D. 敌后战场是抗日战争的主战场
16. 小明以“千里跃进大别山”“改革开放”“社会主义初级阶段理论”为关键词进行人物检索, 他要查找的是
 A. 陈毅 B. 朱德 C. 刘伯承 D. 邓小平
17. 如图是某节历史课板书的一部分, 横线处应填

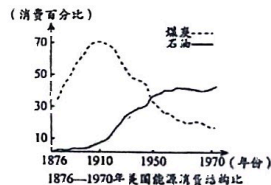


- A. 土地改革 B. 农业合作化
 C. 全行业公私合营 D. 颁布《中华人民共和国宪法》

18. 某博物馆准备举办一次新中国成立以来的科技成就展, 下列备选方案中最恰当的是
 A. 《教师法》“863计划”“希望工程”
 B. “两弹一星”“东方魔稻”“神舟六号”
 C. 《红岩》“三峡工程”“211工程”
 D. “两弹一星”《青春之歌》“985工程”
19. 下列与“亚里士多德”“掷铁饼者”“帕特农神庙”等关键词属于同一学习主题的是
 A. 《汉谟拉比法典》 B. 种姓制度 C. 伯里克利 D. 万神庙
20. 在黑奴贸易运输过程中, 为了防止奴隶逃跑, 在给他们带上脚铐的同时, 欧洲商人还会残忍地用铁丝穿过黑奴的肩胛骨, 用烧红的烙铁在奴隶的身上烙下印记, 就像在给商品做记号。这反映出
 A. 三角贸易导致非洲丧失大量人口 B. 印第安人遭受了深重的灾难
 C. 欧洲文化对殖民地产生深远影响 D. 资本原始积累的野蛮性与残酷性
21. 下表内容共同说明

英国	各种势力都认识到妥协的必要性, 才有了“光荣革命”和君主立宪
美国	北美殖民地取得民族独立后, 建立了联邦制共和国
法国	反动势力更顽固, 国际环境更恶劣, 因此通过暴力手段确立了共和政体

- A. 封建制度阻碍了资本主义发展 B. 资产阶级革命推翻了君主专制
 C. 英法美通过不同方式确立资本主义制度 D. 启蒙运动推动了资产阶级革命
22. 电影《解放者》再现了19世纪拉丁美洲独立运动的情景。影片中的“解放者”可能是
 A. 玻利瓦尔 B. 章西女王 C. 扎格鲁尔 D. 甘地
23. 右图中美国能源消费的变化主要源于
 A. 南北战争的结束 B. 第二次工业革命的开展
 C. 经济大危机的爆发 D. 罗斯福新政的实行
24. 第二次世界大战, 给人类带来极为严重的灾难, 到处是残砖断瓦, 人们流离失所。法西斯德国和日本在给世界带来灾难的同时, 本国也遭受了沉重的打击。该材料描述的是第二次世界大战的
 A. 背景 B. 原因 C. 过程 D. 影响
25. 为开展研究性学习, 某同学搜集了《国内外关于法德和解的研究综述》《马斯特里赫特条约》、欧洲共同体成员国示意图、欧盟旗帜图片等资源。其学习的主题是
 A. 马歇尔计划 B. 欧洲的联合 C. 经济全球化 D. 政治多极化



第II卷

注意：事项：

1. 用黑色字迹的签字笔将答案写在“答题卡”上。
2. 本卷共3大题，共50分。

26. (16分)

货币是商品交换的媒介，也承载了丰富的历史信息。阅读材料，回答问题。

材料一



图一



图二

- (1) 上图中的文物可作为研究哪些朝代历史的史料？它们起到的共同作用是什么？(6分)

材料二



图1 唐朝的开元通宝（始铸于621年）



图2 日本的和同开珎（始铸于708年）

- (2) 指出材料二图片中两种钱币的相似之处，并说说这些相似之处说明了什么？(4分)

材料三



西夏货币

在西夏陵墓、遗址、城址考古中，所有的铜钱窖藏，都以北宋钱为主，占80%-90%，西夏钱没有超过2%……西夏虽然铸造钱币，但西夏社会流通的主要币种不是西夏钱，而是北宋钱。

——摘编自牛达生、陈育宁《西夏钱币研究》

- (3) 材料三中的西夏货币与中原王朝的货币有诸多相似之处，这反映了当时民族关系发展的哪一趋势？结合所学，分析“西夏社会流通的主要是北宋钱”的原因。(6分)

27. (18分)

每个时代都有代表性的重大工程，这些工程不但成为时代的印记，也铸就了非凡的时代精神。阅读材料，回答问题。

材料一 在武汉修建一座长江大桥是几代人的梦想。清朝就曾有过设想……但限于当时国力薄弱，未能实施。新中国成立之初，在国家优先发展重工业的背景下，铁路运输的重要性凸现，建造大桥跨越长江天堑被提上了议事日程……当时中央指示：“修建的长江大桥应当成为一个卓越的建筑，它不但应以现代化的技术解决国家巨大的经济课题，而且在建筑技术上还应以雄伟壮丽的外观标志中国的新时代。”

——摘编自程中原《红色地图：党史记忆90年·成长地标》

- (1) 根据材料一，分析中央下决心修建武汉长江大桥的原因。结合所学知识，指出武汉长江大桥的修建与当时国家实施的哪一举措有关。(6分)

材料二 红旗渠是河南省林县（现林州市）人民在极其艰苦的条件下，从1960年2月开始动工并于1966年建成的一项大型水利工程。在修建这条著名“人工天河”的过程中，勤劳勇敢的十万林州人民，……仅仅靠着一锤、一铲、两只手，在大行山悬崖峭壁上修成了这全长1500公里的红旗渠，结束了十年九旱、水贵如油的苦难历史，而且孕育了“自力更生、艰苦创业、团结协作、无私奉献”的红旗渠精神。

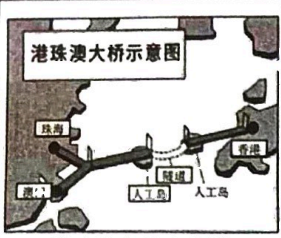
——摘编自肖力、郑洪德《中国共产党精神建设研究》

- (2) 材料中“红旗渠精神”形成于哪一历史时期？其体现了怎样的社会风貌？根据所学知识，列举这一时期能够体现中国共产党人精神谱系的一位代表人物。(6分)



材料三

港珠澳大桥示意图



港珠澳大桥示意图

港珠澳大桥是粤港澳三地首次合作建设的世界级超大型跨海交通工程。港珠澳大桥打破了国内通常的“百年惯例”，制定了 120 年的建设质量标准。中国工程师们在西方海洋地质标准的技术、工艺无法满足施工需要的困难面前，攻克大量技术难题，自主研发了十几项国内首创、世界领先的专用设备和系统，最终保障了“120”指标的达成。

——摘编自《港珠澳大桥：“中国制造”撑起超级工程“世界之最”》

(3) 材料三体现了港珠澳大桥建设中的哪些特点？你从新中国成立 70 多年来重大工程的建设中得到了什么启示？（6 分）

28. (16 分)

演说传递着历史的声音。阅读材料，回答问题。

材料一：1856 年，亚历山大二世向莫斯科贵族发表演说：“到处在谣传，我要给农民自由，这是不公正的……但是，遗憾的是，农民和他们的地主之间存在着敌对情绪，并因此发生了许多不服地主管束的事情。……因而，从上面解决要比从下面解决好得多。”

——摘编自孙成木《俄国通史简编》

(1) 依据材料一并结合所学知识，指出亚历山大二世“从上面解决”农民和地主之间“敌对情绪”的方法，写出其在俄国历史发展中的积极作用。（6 分）

材料二：这个革命的意义首先在于我们将拥有一个苏维埃政府，一个绝无资产阶级参加的我们自己的政权机关。被压迫的群众将亲自建立政权，旧的国家机构将被彻底打碎，而新的管理机构即苏维埃组织将建立起来。俄国历史的新时代从此开始了。

——1917 年 11 月 7 日，列宁在彼得格勒工农兵代表苏维埃会议上的讲话

(2) 材料二中“这个革命”指哪次革命？结合所学，谈谈你对“俄国历史的新时代从此开始了”的理解。（6 分）



材料三：

演说者	演说时间	演说内容摘要
墨西哥总统卡德纳斯	1938 年 3 月	“墨西哥经济独立的日子开始了，没有经济独立，政治独立就是一句空话。”
埃及总统纳赛尔	1956 年 7 月	“苏伊士运河是我们的！……将苏伊士运河收归埃及国有，由埃及管理！”

(3) 依据材料三并结合所学，指出与表格中两次演说相关的历史事件，归纳其反映的共同主题。（4 分）

