

道德与法治和历史合场考试,合计用时120分钟。

本试卷分为第I卷(选择题)和第II卷(非选择题)两部分。第I卷为第1页至第4页,第II卷为第5页至第8页。试卷满分100分。

答题时,务必将答案涂写在“答题卡”上,答案答在试卷上无效。

祝你考试顺利!

第I卷

注意事项:

1. 每题选出答案后,用2B铅笔把“答题卡”上对应题目的答案标号的信息点涂黑。如需改动,用橡皮擦干净后,再选涂其他答案标号的信息点。

2. 本卷共25题,每题2分,共50分。在每题给出的四个选项中,只有一项最符合题意。

1. 右图材料中长达“八百载”的王朝指

- A. 夏朝
B. 商朝
C. 周朝
D. 西周

周武王,始诸封,
八百载,最长久。
——《三字经》

2. 西汉建立于公元前202年,此时间采用公元纪年为

- A. 公元前1世纪初期
B. 公元前1世纪末期
C. 公元前3世纪初期
D. 公元前3世纪末期

3. 有学者认为“到公元3或4世纪时,书法已成为一种(自觉的)特殊的艺术形式”,这是建立在“平滑和有吸收力的书写表面”基础上的。可见,书法成为一门艺术

- A. 与造纸术进步相关
B. 有利于书写材料革新
C. 加速了汉字的简化
D. 推动了印刷术的发展

4. 含嘉仓是隋朝在洛阳修建的最大的国家粮库。考古发现,其遗址面积40多万平方米,有数百个粮窖。仓窖口径最大的达18米,最深的达12米。这反映了隋朝

- A. 商业贸易发达
B. 经济比较繁荣
C. 社会秩序安定
D. 皇室奢侈腐化



含嘉仓示意图

5. 以下两首诗歌均为杜甫创作,其内容的变化反映出

《忆昔》	《无家别》
忆昔开元全盛日,小邑犹藏万家室。 稻米流脂粟米白,公私仓廩俱丰实。	寂寞天宝后,园庐但蒿藜。 我里百余家,世乱各东西。

- A. 唐朝是我国诗歌创作的黄金时代
B. 杜甫的创作水平不断降低
C. 杜诗风格与唐朝历史的走向相关
D. 科举制促进了诗歌的繁荣

6. 郑和航海档案有如下歌谣:“迎云对风行,风雨转时辰;日没黑云接,风雨不可说。云布满山低,连霄雨乱飞;云从龙门起,颶风连急雨。”这反映郑和下西洋成功的原因是

- A. 明朝前期国力强盛
B. 明朝造船业的发达
C. 指南针应用于航海
D. 掌握利用气象规律

7. 下表是雍正、乾隆年间人均耕地占有量统计表,据此可知

时间	人口(人)	人均耕地(亩/人)
雍正十二年(公元1734年)	27355462	32.54
乾隆十八年(公元1753年)	102750000	6.89
乾隆三十一年(公元1766年)	208095796	3.56

- A. 生态环境遭到破坏
B. 全国耕地面积逐步减少
C. 精耕细作的必要性
D. 重农抑商政策开始推行

8. 1875年,中国近代第一批海军留学生出国时曾宣言:“此去西洋,应深知中国自强之计,舍此无所他求。背负国家之未来,取尽洋人之科学。赴七万里长途,别祖国父母之邦,奋然无悔。”可见,他们当时出国留学的最终目的是

- A. 游历西方世界
B. 兴办洋务企业
C. 学习西方科技
D. 实现救国图强

9. “维新变法运动在中国历史上第一次提出了由传统走向现代的系统方案……倡导博爱、平等、自由、人权。这些思想观念并没有因戊戌变法的失败而消失其影响,相反,更加深入人心……”这里强调的是戊戌变法

- A. 开启了近代化的历程
B. 起了思想启蒙的作用
C. 使民主共和深入人心
D. 促进了政治上的变革

10. 清末,127所高等专门学校中有理、工、农、医类学校23所,学生2195人,占全部专科学学生总数的9.2%。1915年,94所专科学校中有工、农、医类学校29所,学生4763人,占学生总数的19.8%。这反映出

- A. 近代新式教育逐渐发展
B. 辛亥革命成果丰硕
C. 专科学校布局科学合理
D. 大学学制得到统一

11. 下列建筑共同见证了



北京大学红楼



中共一大上海会址

- A. 新民主主义革命的兴起
B. 工农武装割据的形成
C. 武装反抗反动派的斗争
D. 中国共产党从幼年走向成熟



12. 《中国的红色政权为什么能够存在?》一文指出:“虽有很好的工农群众,若没有相当力量的正式武装,便决然不能造成割据局面……”在此认为造成割据局面的关键是

- A. 建立革命政权 B. 发动工农群众
C. 创建人民军队 D. 开展游击战争

13. 右侧示意图的标题应为

- A. 第一次国共合作
B. 从国共合作到国共对立
C. “围剿”与反“围剿”
D. 第二次国共合作



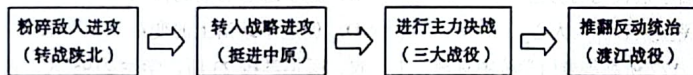
14. 斯诺写到:“当今时代无与伦比史诗般的远征”,“是历史上最盛大的武装巡回宣传”,“是军事史上伟大的业绩之一”。其评价的历史事件

- A. 是中国共产党独立领导武装斗争的开始 B. 标志着中国革命从城市转向农村
C. 是中国共产党历史上生死攸关的转折点 D. 使中国革命转危为安

15. 1935年,由共产党员田汉作词、聂耳作曲的《义勇军进行曲》问世,国民党禁止歌曲公开发行。1937年后,《义勇军进行曲》在各种公开场合频繁出现,成为国共军队中的流行歌曲。出现上述变化的原因是

- A. 全民族抗战背景下国共合作的实现 B. 九一八事变揭开反法西斯战争序幕
C. 共产党领导下抗日根据地相继建立 D. 中日民族矛盾开始上升为主要矛盾

16. 下面的示意图有助于我们了解



- A. 旧民主主义革命发展历程 B. 国民大革命的主要进程
C. 中华民族抗日战争的历程 D. 人民解放战争主要进程

17. 邓小平说:“证券、股市,……是不是资本主义独有的东西,社会主义能不能用?……搞一两年,对了,放开;错了,纠正,关了就是了”。其体现的思想理念是

- A. 以阶级斗争为纲 B. 实践才是检验真理的唯一标准
C. 实现共同富裕 D. 实现合作共赢,增进人民福祉

18. 从1984年到2013年底,我国少数民族地区城镇居民人均可支配收入增长38倍;农民人均收入增长21倍。这直接反映出少数民族地区

- A. 实行了彻底的民主改革 B. 实行了民族区域自治制度
C. 人民生活水平大大提高 D. 进行农村和城市经济改革

19. 英国诗人雪莱说:“我们都是希腊人,我们的法律、文学和艺术之根都在希腊,古希腊文明回声的最强音,是世界许多民族每天都在运用的语言文字。”这句话的含义是

- A. 希腊文明是文艺复兴产生的根源 B. 古代希腊是西方文明之源
C. 古代希腊是一切人类文明的发源地 D. 古代希腊人是欧洲人的祖先

20. “这一帝国以其保存的希腊罗马古典文化,傲立于当时相对黑暗的欧洲。国运延续千年,并为文艺复兴提供了丰富的精神营养。”材料描述的帝国是

- A. 拜占庭帝国 B. 罗马帝国 C. 阿拉伯帝国 D. 亚历山大帝国

21. 陈衡哲《西洋史》中提到,文艺复兴(Renaissance)意义有两个:一是复生(re-birth),一是新生(new-birth),这两个意义都是不错的。该提法比较准确的反映了文艺复兴的

- A. 形式与实质 B. 原因与结果 C. 兴起与内容 D. 内容与影响

22. 社会转型指人类历史上发生的结构性或根本性的社会变动,它是量变积累到一定程度所引发的超越原有社会模式的全方位、革命性的质变。下列选项属于“社会转型”的是

- A. 彼得一世改革 B. 明治维新 C. 罗斯福新政 D. 赫鲁晓夫改革

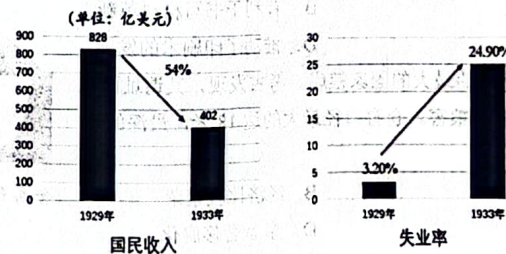
23. 下列对表格所示第一次世界大战爆发原因的解读,最准确的是

第一次世界大战爆发的历史渊源(部分)

观点 1	资本主义政治经济发展的不平衡
观点 2	欧洲两大军事对抗组织的出现
观点 3	德国的崛起与欧洲各国的军备竞赛
观点 4	巴尔干危机埋下战争祸根

- A. 三国同盟和三国协约的军事对抗 B. 英国与德国矛盾的激化
C. 政治经济军事等因素的共同作用 D. 欧洲各国开展军备竞赛

24. 为应对下图中的严峻形势,美国采取的措施是



- A. 颁布《宅地法》 B. 实施罗斯福新政
C. 提出杜鲁门主义 D. 推行马歇尔计划

25. “霸权主义”“多极化方向”是某历史兴趣小组开展探究性学习搜集资料时的用词,由此判断其研究的主题是()

- A. 法西斯国家的侵略扩张 B. 第二次世界大战
C. 一战后的世界格局 D. 冷战后的世界格局



第II卷

注意事项:

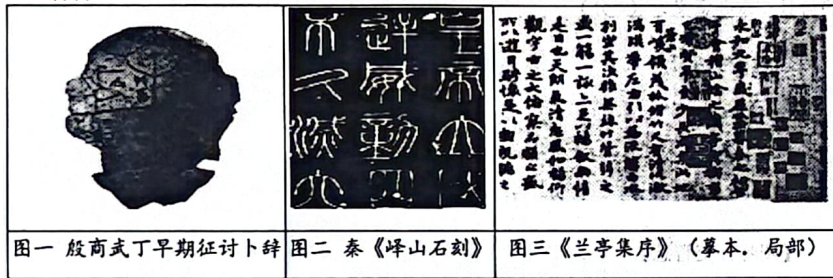
1. 用黑色字迹的签字笔将答案写在“答题卡”上。
2. 本卷共3大题,共50分。

26. (16分)

在世界文明坐标中,中国文化符号承载着丰富的历史内涵,是增强民族自信、提升国家“软实力”的重要途径。阅读下列材料,回答问题。

【文字符号】

材料一



(1) 汉字演变经历了漫长的历程,结合以上三幅图片概括汉字演变的主要趋势。请指出图二文字的字体,并说出其历史意义。(6分)

【思想符号】

材料二

樊迟问仁。子曰:“爱人。”“夫仁者,己欲立而立人,己欲达而达人。”子贡问曰:“有一言而可以终身行之者乎?”子曰:“其‘恕’乎!己所不欲,勿施于人。”
——《论语·颜渊篇》

下图是不同时期的人们对孔子和儒家认可程度的变化曲线图。

(2) 依据材料二,指出孔子的核心主张是什么?引用材料二中的一句原话说明如何实现这一主张?结合所学知识,说出图中甲、乙两个时期人们对于孔子和儒家认可状况出现的原因分别是什么?(6分)

【文化符号】

材料三 2017年《关于实施中华优秀传统文化传承发展工程的意见》明确提出:“实施中国传统节日振兴工程,丰富春节、元宵、清明、端午、七夕、中秋、重阳等传统节日文化内涵。”

	<p>春节,即农历新年。春节历史悠久,由上古时代岁首祈年祭祀演变而来。在春节期间,全国各地均有举行各种庆贺新春活动,这些活动以除旧布新、拜神祭祖、纳福祈年为主要内容,形式丰富多彩。节日交流问候传递着亲朋乡里之间的亲情伦理,它是人们增进感情的重要节日,是个欢乐祥和、亲朋好友欢聚的传统佳节。</p>
	<p>中秋节,又称祭月节、秋节、拜月节、月亮节、团圆节等,是中国民间的传统节日。中秋节源自天象崇拜,由上古时代秋夕祭月演变而来。最初“祭月节”的节期是在干支历二十四节气“秋分”这天,后来才调至夏历八月十五日,中秋节自古便有赏月、吃月饼、玩花灯、赏桂花、饮桂花酒等民俗,流传至今,经久不息。</p>

(3) 依据材料三,归纳春节和中秋节中可以挖掘的文化内涵。综合以上探究,围绕如何传承中华优秀传统文化、弘扬优秀传统文化、提升文化自信,提出你的建议。(4分)

27. (18分)

某班同学开展新中国史宣讲活动,请你共同完成以下任务。(18分)

【建设·新世界】

材料一

夺取全国胜利,这只是万里长征走完了第一步。……我们不但善于破坏一个旧世界,我们还将善于建设一个新世界。
——毛泽东在中共七届二中全会上的报告

中国共产党七届二中全会旧址

(1) 为“建设一个新世界”,建国初期,中国共产党在经济上采取了哪些重大措施?(至少答出三点)(6分)



【开创·新局面】

材料二 我国的经济体制改革在经历了80年代初以农村改革为重点的第一阶段，和80年代中后期以城市为重点、城乡联动、全面改革以来，以中国共产党十四大为标志，改革进入了新阶段。

——宁可主编《中国经济发展史》

(2) 材料二中“第一阶段农村改革”的重大举措是什么？为什么说“以中国共产党十四大为标志，改革进入了新阶段”？据材料二和所学知识，概括我国经济体制改革的主要特点。(8分)

【肩负·新使命】

材料三 2012年11月，习近平在参观《复兴之路》展览时指出：“实现中华民族的伟大复兴，就是中华民族近代以来最伟大的梦想。”2013年，习近平主席在十二届全国人大一次会议上，深刻阐释了中国梦的宏伟蓝图。

(3) 中国梦的内涵是什么？实现中华民族伟大复兴的中国梦，是民族的梦，也是每个中国人的梦。作为新时代的中学生，你如何将自己的梦想与中国梦同频共振？(4分)

28. (16分)

在历史发展的长河中，人类智慧的光芒熠熠生辉，照亮了前行的道路。阅读材料，回答问题。

【汲取思想智慧】

材料一


在人类思想史上，没有一种思想理论像马克思主义那样对人类产生了如此广泛而深刻的影响。

——摘自习近平在马克思诞辰200周年纪念大会上的讲话

(1) 马克思主义诞生的标志是什么？如何理解马克思的思想智慧“对人类产生了如此广泛而深刻的影响”？(6分)

【体会经济智慧】

材料二

 <p>图二 世界贸易组织标志</p>	<p>本协议各成员……应旨在提高生活水平，保证充分就业和大幅度稳步提高实际收入和有效需求，扩大货物与服务的生产和贸易……确保发展中国家，尤其是最不发达国家，在国际贸易增长中获得与其经济发展相适应份额……切实降低关税和其他贸易壁垒，在国际贸易关系中消除歧视待遇，为实现上述目标作出贡献。</p> <p>——《马拉喀什建立世界贸易组织协定·概述》</p>
--	---

(2) 世界贸易组织的宗旨是什么？这一组织的成立对推动当今世界经济发展的哪一趋势具有重要意义？(4分)

【阐释外交智慧】

材料三

时间	主要事件
1942年	《联合国家宣言》签署
1955年	万隆会议召开
20世纪70年代	中美关系正常化
中共十八大以来	提出构建“人类命运共同体”

(3) 外交智慧是指在外交活动中，既要最大程度地保护本国利益，又要通过妥协互让，达到国家之间的互利共赢。请从以上表格中选取两个事件，从“僵局·破局”角度，阐述其中蕴含的外交智慧。(6分)

